

Self Learning Material

Grade 10

Business Studies

Includes
Value
Based
Questions




And
Accounting



Provincial Department of Education
Northern Province

1
மாகாணக் கல்வித் திணைக்களம் - வடக்கு மாகாணம் தரம் 10- 2020 சுயகற்றல் கையேடு
தயாரிப்பு:- மாகாணக் கல்வித் திணைக்களம்



தரம் 10
மாணவர்களுக்கான
சுய பயிற்சிக் கையேடு

வணிகமும் கணக்கீட்டுக்
கல்வியும்

2020

(தரம் 10 இரண்டாம் தவணை பாடத்திட்டத்தை
உள்ளடக்கியது)

தயாரிப்பு:-

மாகாணக் கல்வித் திணைக்களம்
வடக்கு மாகாணம்

வணிகப் பின்னணி Backround of Business

வினாக்கள்

- ❖ எல்லா வினாக்களுக்கும் விடை எழுதுக
- ❖ பஸ்தேர்வு வினாக்களுக்கு (1) (2) (3) (4) என இலக்கமிடப்பட்ட விடைகளில் சரியான அல்லது மிகப் பொருத்தமான விடையைத் தெரிவு செய்க.
- ❖ பகுதி 11 வினாக்களுக்கு சுருக்கமான விடை தருக.

பகுதி 1

01. மனிதர்களது தேவை விருப்பங்களை நிறைவு செய்வதற்கு அவசியமான பொருட்களையும் சேவைகளையும் உற்பத்தி செய்து விநியோகம் செய்தல் தொடர்பான பொருளாதார நடவடிக்கை எவ்வாறு அழைக்கப்படும்?
1) வியாபாரம் 2) வணிகம் 3) வர்த்தகம் 4) உற்பத்தி
02. பின்வருவனவற்றுள் விருப்பமாகக் கருதப்படுவது யாது?
1) உணவு 2) சோறு 3) பாதுகாப்பு 4) சுகாதாரம்
03. மனித தேவைகளின் பண்புகள் தொடர்பாக பின்வருவனவற்றில் எது சரியானது,
1) அனைத்து சமூகங்களிற்கும் பொதுவானவை 3) இரண்டாம் நிலைக்குரியது
2) பல்வகைத் தன்மை கொண்டது 4) வரையறுக்கப்படாதவை
04. பின்வருவனவற்றுள் தேவைகளை மட்டும் கொண்ட தொகுதியைத் தெரிவு செய்க
(1) உணவு, ஆடை அணிகள், கல்வி, பொழுதுபோக்கு
(2) சோறு, சப்பாத்து, ஆங்கில மொழிக் கல்வி, புத்தகம் வாசித்தல்
(3) பாதுகாப்பு, தொலைதொடர்பு, போக்குவரத்து, சோறு
(4) இடியப்பம், காப்பு, கல்வி, பொழுதுபோக்கு
05. விருப்பம் ஒன்றின் பண்பாகக் கருதப்படக் கூடியது,
(1) ஆரம்பத்திலேயே உருவாகுதல்
(2) பல்வேறுபட்டது
(3) சகலருக்கும் பொதுவானது
(4) வணிகர்களால் தோற்றுவிக்க முடியாது

மனித தேவைகளும் விருப்பங்களும்





Name: _____
Directions: Circle to show if the picture is a NEED or a WANT.



Name: _____
Directions: Circle to show if the picture is a NEED or a WANT.



உற்பத்தி வணிகம்

06. பின்வருவனவற்றுள் பொருள் உற்பத்தி வணிகமாகக் கருதப்பட முடியாதது எது?
- 1) மொத்த வியாபார நிறுவனங்கள்
 - 2) தயாரிக்கப்பட்ட உணவு
 - 3) மோட்டார் வாகனங்கள்
 - 4) கையடக்கத் தொலைபேசி
07. பின்வரும் வணிகங்களில் சேவைகளை வழங்கும் வணிகமாகக் கருதப்படக் கூடியது,
- 1) மோட்டார் வாகன உற்பத்தி நிறுவனங்கள்
 - 2) குளிப்பான வகைகளை உற்பத்தி செய்யும் நிறுவனங்கள்
 - 3) மோட்டார் வாகனங்களை பழுது பார்க்கும் நிறுவனங்கள்
 - 4) தளபாட உற்பத்தி நிறுவனங்கள்
08. பின்வரும் வணிகங்களில் சேவை உற்பத்தி வணிகங்களை உள்ளடக்கிய தொகுதியினை தெரிவு செய்க.
- 1) மொத்த சில்லறை வியாபார நிறுவனங்கள், பாண் உற்பத்தி, ஆடை உற்பத்தி
 - 2) மொத்த சில்லறை வியாபார நிறுவனங்கள், வங்கிகள், அழகுக் கலை நிலையங்கள்
 - 3) டயர் உற்பத்தி, பாண் உற்பத்தி, ஆடை உற்பத்தி
 - 4) தபால் நிலையம், வாகனம் திருத்துமிடம், பாண் உற்பத்தி
09. உற்பத்தி பொருட்களின் பண்புகள் வருமாறு.
- A. கட்புலனாகக் கூடியது.
 - B. சேமிக்க முடியாது.
 - C. தொட்டுணரக்கூடியது.
 - D. பௌதீகத் தன்மையற்றது
- பின்வருவனவற்றுள் சேவை உற்பத்தி ஒன்றின் பண்புகளாவன,
- 1) A யும் B யும்
 - 2) B யும் C யும்
 - 3) A யும் D யும்
 - 4) B யும் D யும்

The Four Factors of Production

1. Land- All natural resources that are used to produce goods and services. Anything that comes from "mother nature."

(Water, Sun, Plants, Oil, Trees, Stone, Animals, etc.)



Factors of Production

"Factors of Production are the inputs needed in a process of conversion or production of goods and services."

getconhelp.com

Land



Labour



Capital



Entrepreneur



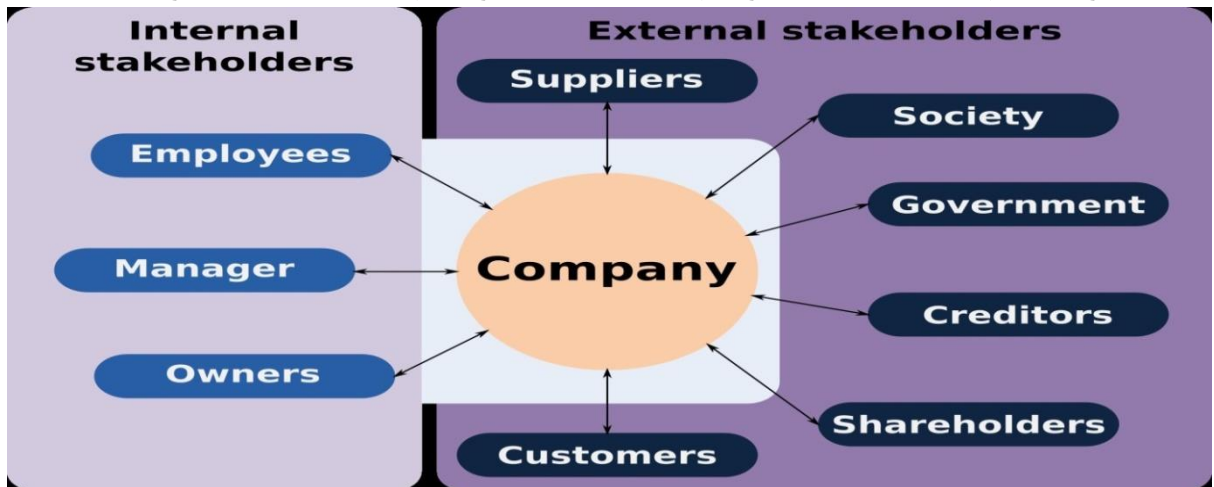
வணிகத்தில் அக்கறை செலுத்தும் பிரிவினர்

15. வணிகமொன்றில் வணிகத்திட்டத்தை சரியான முறையில் செயற்படுத்தல், சரியான தீர்மானமெடுத்தலை மேற்கொள்ளும் அக்கறை கொள்ளும் தரப்பினராகக் கருதப்படக் கூடியவர்,
1) முகாமையாளர் 3) ஊழியர்
2) உரிமையாளர் 4) வழங்குநர்
16. யாதேனும் வணிகம் ஒன்றின் மூலம் உற்பத்தி செய்யப்படும் உற்பத்திப் பொருட்களுக்கு சமமான பொருட்கள், சேவைகளை உற்பத்தி செய்து சந்தைப்படுத்துபவர்களைக் குறிப்பது,
1) உரிமையாளர் 3) வழங்குநர்கள்
2) போட்டியாளர் 4) வாடிக்கையாளர்கள்
17. நிரல் A ஆனது வணிகம் ஒன்றில் அக்கறை செலுத்தும் நபர்களையும், நிரல் B யானது அவர்கள் அக்கறை செலுத்துவதற்கான காரணங்களையும் காட்டுகின்றது.

A	B
01. கடன் வழங்கும் நிறுவனங்கள்	P- மூலதனத்தை ஈடுபடுத்தி இலாபத்தை உழைத்தல்
02. முகாமையாளர்கள்	Q- தொழிற்பாதுகாப்பு
03. ஊழியர்கள்	R- கடன்களை உரிய காலத்தில் மீள்பெறல்
04. உரிமையாளர்கள்	S- சிறந்த தீர்மானம் எடுத்தல்

A இணையும் B இணையும் தொடர்புபடுத்தும்போது சரியான இணைப்பிணைக் காட்டும் விடையிணைத் தெரிவு செய்க.

- 1) RSQP 2) PQRS 3) QRSP 4) RSPQ



மாகாணக் கல்வித் திணைக்களம் - வடக்கு மாகாணம் தரம் 10- 2020 சுயகற்றல் கையேடு
தயாரிப்பு:- மாகாணக் கல்வித் திணைக்களம்

பகுதி 11 சுருக்கமான விடை தருக

1. வணிகம் என்பதற்கு பொருத்தமான வரைவிலக்கணம் தருக.
2. வணிகமொன்றின் பொதுவான நோக்கங்கள் இரண்டினைக் குறிப்பிடுக.
3. வணிகமொன்றின் துணை நோக்கங்களைக் குறிப்பிடுக.
4. நிகழ்காலத்தில் மனிதனது தேவைகளும், எண்ணிறைந்த விருப்பங்களும் **வணிகத்தினால்** பூர்த்தி செய்யப்படுகின்றன. வணிக எண்ணக்கருவின் அடிப்படையில் பண்டமாற்று முறையில் ஆரம்பித்த வணிகமானது இன்று இலத்திரனியல் வணிகமாக மாற்றமடைந்துள்ளது.
(அ) மேற்குறிப்பிட்டுள்ள கூற்றில் தடித்த கோடிடப்பட்ட சொற்களால் குறிப்பிடப்படும் கருத்து யாது?
ஆ) ஒரு மனிதனால் கட்டாயம் பூர்த்தி செய்யப்பட வேண்டியவை தேவைகள் ஆகும். அவை பூர்த்தி செய்யப்படும் வடிவங்கள் விருப்பங்களாகும். தேவை விருப்பங்களுக்கிடையிலான இரண்டு வேறுபாடுகளைத் தருக.
5. மனித தேவை என்றால் என்ன?
6. மனித தேவைகளின் பண்புகள் இரண்டினைக் குறிப்பிடுக.
7. மனித விருப்பங்கள் என்றால் என்ன?
8. மனித விருப்பங்களின் பண்புகளைக் குறிப்பிடுக.
9. மனித தேவைகளையும் விருப்பங்களையும் வேறுபடுத்துக.
10. வணிகமொன்றினால் உற்பத்தி செய்யப்படும் உற்பத்திகளின் தன்மைக்கு ஏற்ப இரண்டு வகைப்படுத்தலாம். அவை எவை?
11. உற்பத்திக் காரணிகள் என்றால் என்ன?
12. உற்பத்திக் காரணிகளைக் குறிப்பிடுக.
13. பாடசாலையிலிருந்து கிடைக்கப்பெறும் கட்டளைக்கமைய புதிய தையல் இயந்திரங்களை கொண்டு பாடசாலை மாணவருக்கான கழுத்துப்பட்டி, மற்றும் சீருடைகளை உற்பத்தி செய்தல் தொடர்பான வணிகமொன்றை ஆராதனா நடரத்தி வருகின்றார்.
(அ) ஆராதனாவின் வணிகத்தின் மூலம் பூர்த்தி செய்யப்படும் அடிப்படை மனித தேவை யாது?
(ஆ) இந்த வணிகத்தில் காணப்படும் உற்பத்திக் காரணிகள் இரண்டினைக் குறிப்பிடுக.
14. பின்வரும் அக்கறை செலுத்தும் தரப்பினரிடமிருந்து வணிகமொன்று எதிர்பார்க்கும் பங்களிப்பு ஒவ்வொன்றுவீதம் குறிப்பிடுக.
(அ) வழங்குநர் (ஆ) அரசாங்கம்
15. தேவைகளை நிறைவேற்றும் நான்கு வணிகங்களின் பெயர்கள் கீழே தரப்படுகின்றன.
A. சுவையூற்று குளிர்களி விற்பனை நிலையம்
B. பெண்களுக்கான அழகுசாதன பொருள் விற்பனை நிலையம்
C. டயலாக் தொலைத்தொடர்பு நிறுவனம்
D. யாழ் நூலகம்
(அ) மேற் குறிப்பிட்ட நிறுவனங்களினால் நிறைவு செய்யப்படும் மனித தேவைகளைக் குறிப்பிடுக.
(ஆ) மேற்படி நிறுவனங்களினால் நிறைவு செய்யப்படும் விருப்பங்களுக்கு ஒவ்வொரு உதாரணம் தருக.
16. கல்யாணி தளபாட உற்பத்தி நிலையம் வீட்டு, அலுவலக தளபாட பொருட்களை உற்பத்தி செய்து விற்பனை செய்யும் ஒரு வணிக அமைப்பாகும். அதன் உற்பத்தி காரணிகளான நிலம், உழைப்பு, மூலதனம், முயற்சி என்பவற்றுக்கு உதாரணம் ஒன்று வீதம் தருக.
17. நீர் உமது பாடசாலை சிற்றுண்டிச் சாலையின் உரிமையாளர் ஒருவர் எனக் கருதுக. உம்மிடம் இருந்து வாடிக்கையாளராகிய மாணவர்கள் எதிர்பார்க்கும் விடயங்கள் இரண்டினைக் குறிப்பிடுக
18. வணிகமொன்றில் உள்ளக ரீதியாக அக்கறை செலுத்தும் தரப்பினர் இருவரைக் குறிப்பிடுக
19. பாலன் என்பவர் பிரம்பிலான கதிரை மேசைகளை அவரின் ஆக்கத்தினால் வெவ்வேறு வடிவங்களில் அவரின் உதவியாளர் ஒருவரின் உதவியுடன் அழகிய வர்ணங்களைப் பயன்படுத்தி உற்பத்தி செய்து வருகின்றார்.
(அ) இச் சம்பவத்தில் குறிப்பிடப்படும் வணிகத்தின் இரண்டு உற்பத்திக் காரணிகளை எழுதுக
(ஆ) நீர் மேலே 3 (அ) இல் குறிப்பிட்ட ஒவ்வொரு காரணிகளுக்கும் இச்சம்பவத்தில் இருந்து ஒவ்வொரு உதாரணம் தருக.

20. தேசிகன் என்பவர் தனது சொந்த சேமிப்பு மற்றும் மக்கள் வங்கியில் பெற்ற கடனை பயன்படுத்தி கணினி மற்றும் மடிக்கணினி திருத்தும் வணிகமொன்றை இரண்டு ஊழியர்களை வேலைக்கமர்த்தி நடாத்தி வருகின்றார்.
அ. மேற்படி வணிகத்தில் அக்கறை செலுத்தும் தரப்பினர் இருவரைக் குறிப்பிடுக.
21. மாலா என்பவர் தனது வீட்டிலேயே அலங்காரப் பூச்செடி வகைகளை தன்னிடம் உள்ள உபகரணங்களின் உதவியுடன் வளர்த்து விஷேட நிகழ்வுகளுக்கான மலர்களையும் பூக்கன்றுகளையும் உதவியாளர் ஒருவரின் துணையுடன் விற்பனை செய்து வருகின்றார்.
i. இச்சம்பவத்தில் குறிப்பிடப்படும் இரண்டு உற்பத்திக் காரணிகளைக் குறிப்பிடுக.
ii. நீர் மேலே i. இல் குறிப்பிடப்பட்ட ஒவ்வொரு உற்பத்திக் காரணிகளுக்கும் இச்சம்பவத்தில் இருந்து ஒவ்வொரு உதாரணம் தருக.
iii. மேற்படி வணிகம் உற்பத்தியின் தன்மை அடிப்படையில் எவ்வகை வணிகமெனக் கருத முடியும்?
22. திரேசா என்பவர் ஆடை வடிவமைப்பு மற்றும் ஆடை தைத்தல் பாடநெறியினைப் பூரணமாகப் பூர்த்தி செய்ததன் பின்பு தன்னுடைய கணவனின் துணையுடன் 10 தையல் இயந்திரங்களைக் கொள்வனவு செய்து தனது வீட்டின் ஒரு பகுதியில் ஆடை தைக்கும் வணிகத்தினை ஆரம்பித்தார்.
(அ) திரேசாவின் துணையுடைய வணிகத்தில் அக்கறை காட்டும் இரு தரப்பினர்களை குறிப்பிடுக?
(ஆ) குறித்த வணிகத்தில் அக்கறையுடையவர்கள் ஆர்வம் காட்டுவதற்கான காரணங்கள் ஒவ்வொன்றினைக் குறிப்பிடுக?

வணிகச் சூழல் Business Environment

01. வணிகச் சூழல் காரணிகள் சில கீழே தரப்படுகின்றன.
A. வாடிக்கையாளர் C. உரிமையாளர் E. ஊழியர்கள்
B. போட்டியாளர்கள் D. வழங்குநர்கள்
மேற்கூறப்பட்டவற்றுள் புறச் சூழல் காரணிகளை மட்டும் உள்ளடக்கும் விடைத்தொகுதியினைத் தெரிவு செய்க.
1) A, B, C 2) B, C, D 3) C, D, E 4) A, B, D
02. உள்நாட்டு உற்பத்தியாளர், நுகர்வோர், வணிகச் சமூகம் போன்றவர்களை பாதுகாக்கும் நோக்குடன் அங்கீகரிக்கப்பட்ட சட்ட விதிகள் எச்சூழல் தொகுதியைச் சார்ந்தது?
1) பொருளாதாரச் சூழல் 3) இயற்கைச் சூழல்
2) தொழில்நுட்பச் சூழல் 4) சட்டச்சூழல்
03. தனிநபர் வருமானத்திலிருந்து நுகர்விற்கு பயன்படுத்தி செலவிடப்படாது வைத்திருக்கும் பணப்பெறுமதி எவ்வாறு அழைக்கப்படும்?
1) நுகர்வு 2) முதலீடு 3) சேமிப்பு 4) பரிமாற்றம்
04. பூகோளமயச் சூழலினால் ஏற்படும் பாதகமான விளைவு எனக் கருதப்படுவது யாது?
1) நவீன நுட்பமுறைகளைப் பெற்றுக் கொள்ளல்
2) இயந்திரப் பாவனைகள்
3) அதிக போட்டிக்கு முகம் கொடுத்தல்
4) நாட்டினுள் வெளிநாட்டு மூலதனம் உட்பாய்ச்சப்படல்
05. வணிக உலகில் உற்பத்தி செய்யப்படும் சில பொருட்கள், சேவைகள் மிக விரைவாக காலவதியாகும் நிலைக்கு உட்படுவதற்கு காரணமாக அமையும் சூழலாக அமைவது,
1) பொருளாதாரச் சூழல் 3) சட்டச் சூழல்
2) தொழினுட்பச் சூழல் 4) பூகோளச் சூழல்

06. வணிகமொன்றின் வெளியகச் சூழலை ஆய்வு செய்வதன் மூலம்(1).....,(2)..... என்பவற்றை அறிந்து கொள்ள முடியும்.
- 1) பலம், பலவீனம் 3) பலவீனம், அச்சுறுத்தல்
2) பலம், அச்சுறுத்தல் 4) வாய்ப்பு, அச்சுறுத்தல்
07. சன்லைற் (Sunlight) சவர்கார உற்பத்தி நிறுவனத்திற்கு ஏற்றுக்கொள்ளப்பட்ட குறியீட்டு இலட்சினை ஒன்று காணப்படுதலானது அந்நிறுவனத்திற்கு ஒரு,
- 1) பலமாகும் 2) பலவீனமாகும் 3) வாய்ப்பாகும் 4) அச்சுறுத்தலாகும்
08. பின்வருவனவற்றில் மக்கட் சூழல் காரணிகளை மட்டும் உள்ளடங்கும் தொகுதியாக அமைவது,
- 1) சனத்தொகை அளவு, வருமானம், பணவீக்கம்
2) மொத்த தேசிய உற்பத்தி, சேமிப்பு, முதலீடு
3) சட்டங்கள், வரிக்கொள்கை, சனத்தொகை அளவு
4) சனத்தொகை அளவு, ஆயுட்காலம், வயது
09. வணிகங்கள் தமது பலங்களையும், பலவீனங்களையும் அறிந்து கொள்வதற்கு,
- 1) வணிகச் சூழலை ஆராய்தல் வேண்டும்
2) புறச்சூழலை ஆராய்தல் வேண்டும்.
3) அகச்சூழலை ஆராய்தல் வேண்டும்.
4) மேற்கூறிய அனைத்தையும் ஆராய்தல் வேண்டும்.
10. வணிகமொன்றிற்கு ஏற்றுக்கொள்ளப்பட்ட பெயர் ஒன்று இருத்தல் வணிகம் முன்னேற்றமடைவதற்கு காரணமாக அமையும். வணிகத்தின் ஏற்றுக்கொள்ளப்பட்ட பெயர் வணிகத்தின்,
- 1) வாய்ப்பாகக் காணப்படும் 3) பலமாகக் காணப்படும்
2) அச்சுறுத்தலாகக் காணப்படும் 4) பலவீனமாகக் காணப்படும்
11. திறந்த பொருளாதாரக் கொள்கையால் உள்நாட்டு சிறுகைத்தொழில்களுக்கு பெரும் பாதிப்பு ஏற்படுகின்றது. இக்கொள்கைக்குரிய சூழல் காரணியாக அமைவது,
- 1) பொருளாதாரச் சூழல் 3) அரசியல் சூழல்
2) சட்டச்சூழல் 4) பூகோளமயச் சூழல்
12. பின்வருவனவற்றில் எச்சூழல் காரணியை புறச்சூழல் காரணியாகக் கருதமுடியாது?
- 1) ஊழியர்கள் 2) வாடிக்கையாளர் 3) வழங்குனர் 4) அரசியல் சூழல்
13. பிழையான கூற்றைத் தெரிவு செய்க.
- 1) பலம் - முகாமையாளரின் அனுபவங்கள்
2) பலவீனம் - பணியாளரின் எதிர்மறை மனப்பாங்கு
3) வாய்ப்பு - புதிய நகரங்களை உருவாக்கல்
4) அச்சுறுத்தல் - வணிகம் பற்றிய அறிவு உரிமையாளருக்கு போதுமானதாக இல்லாதிருத்தல்
14. பின்வருவனவற்றுள் எது அரசியற் சூழலாகக் கருதப்படும்.
- 1) 2007 ஆம் ஆண்டு 07 ஆம் இலக்க கம்பனிச் சட்டம்
2) உட்கட்டமைப்பு அபிவிருத்திக் கொள்கைகள்
3) அன்னியச் செலாவணி மாற்று வீதம்
4) நனோ (Nano) தொழிநுட்ப அறிமுகம்
15. வணிகமொன்றில் காணப்படும் வாய்ப்புகளுக்கு ஓர் உதாரணமாகக் கூறக்கூடியது.
- 1) முகாமையாளர்களின் அனுபவங்கள்
2) நவீன தொழிநுட்பங்கள் பயன்படுத்தப்படாமை
3) அரசு மூலம் குறைவான வட்டி வீதத்தில் கடன் முறைகளை அறிமுகப்படுத்தல்
4) சர்வதேச வர்த்தக கட்டுப்பாடுகளை விதித்தல்

16. 'வங்கிகள் வைப்புக்களுக்காக வழங்கும் வட்டிவீதத்தில் ஒரு நாட்டின் சேமிப்பானது தங்கியுள்ளது' மேலே தரப்பட்ட கூற்றினை எவ்வகையான சூழல் காரணியாகக் கருத முடியும்?
- 1) சமூக கலாசாரச் சூழல் 2) மக்கட்சூழல் 3) பொருளாதாரச்சூழல் 4) அரசியல் சூழல்
17. வணிகமொன்றின் சூழலில் ஏற்படும் மாற்றங்கள் சில கீழே தரப்பட்டுள்ளது.
- A. தேவையான மூலதனம் காணப்படல்
B. அரசு வங்கிகளில் குறைந்த வட்டிவீதத்தில் கடன் வழங்கல்
C. அதிவேக பாதைகள், மேம்பாலங்கள் உருவாக்கப்படல்
D. ஊழியர்கள் விசேட திறமை கொண்டவர்களாகக் காணப்படுவதுடன் அர்ப்பணிப்புடன் செயற்படல்
- மேலே குறிப்பிட்டவற்றுள் பலத்தை மாத்திரம் உள்ளடக்கும் விடைத்தொகுதியாக அமைவது,
- 1) A, B 2) A, C 3) A, D 4) C, D
18. வணிகமொன்றின் அகச்சூழல் காரணியாகக் கருதப்பட முடியாதது,
- 1) வழங்குநர்கள் 2) முகாமையாளர்கள் 3) உரிமையாளர்கள் 4) ஊழியர்கள்
19. வணிகமொன்றின் பலம் மற்றும் சந்தர்ப்பங்கள் கீழே தரப்பட்டுள்ளன.
- A. தேவையான மூலதனம்
B. அதிவேக நெடுஞ்சாலை நிர்மாணம்
C. அரசினால் குறைந்த வட்டிக்கடன் வழங்கல்
D. ஊழியர்களின் விசேட திறமையும் முயற்சியும்
- இங்கு குறிப்பிட்டவற்றுள் பலம் மாத்திரம் உள்ளடக்குவது
- 1) A யும் B 2) A யும் C 3) A யும் D 4) C யும் D
20. வணிக சூழலானது உள்ளக மற்றும் வெளியக சூழல் காரணிகள் ஆய்வு செய்யப்படுகின்றது. அவற்றுள் உள்ளக சூழல் காரணிகளை மற்றும் கொண்ட தொகுதி,
- 1) உரிமையாளர், முகாமையாளர், ஊழியர்கள்
2) உரிமையாளர், ஊழியர்கள், நுகர்வோர்
3) உரிமையாளர், நுகர்வோர், போட்டியாளர்கள்
4) உரிமையாளர், போட்டியாளர்கள், வழங்குனர்கள்
21. பூகோளமயச் சூழலினால் ஏற்படும் பாதகமான விளைவு எனக் கருதப்படுவது யாது?
- 1) நவீன நுட்பமுறைகளைப் பெற்றுக் கொள்ளல்
2) இயந்திரப் பாவனைகள்
3) உள்நாட்டுக் கலாச்சாரத்தில் பாதகமான மாற்றங்கள்
4) வெளிநாட்டு மூலதன உட்பாய்ச்சல்கள்
22. அரசு மூலம் குறைவான வட்டி வீதத்தில் கடன் முறைகள் அறிமுகப்படுத்தல் எக்காரணிகளுள் உள்ளடங்கும்.
- 1) பலம் 2) வாய்ப்புக்கள் 3) அச்சுறுத்தல் 4) பலவீனம்
23. பொருளாதாரச் சூழல் காரணிகளுக்கு உட்படாத காரணியாக அமைவது.
- 1) தேசிய உற்பத்தி 2) வருமானம் 3) சேமிப்பு 4) குழந்தை பிறப்பு வீதம்
24. வாடிக்கையாளர்கள் உள்ளடங்கும் வணிகச்சூழல்
- 1) அகச்சூழல் 2) புறச்சூழல் 3) மக்கட்சூழல் 4) போட்டியாளர்கூழல்
25. சேமிப்புக்கும், முதலீட்டிற்கும் இடையிலான தொடர்பைக் காட்டும் சரியான விடை
- 1) சேமிப்பு அதிகரிக்க முதலீடும் அதிகரிக்கும்
2) சேமிப்பு அதிகரிக்க முதலீடு மாற்றமடையாது
3) சேமிப்பு அதிகரிக்கும் முதலீடு குறையும்
4) சேமிப்பு அதிகரிக்க நுகர்வு அதிகரிக்கும்
26. வணிகத்தின் வாய்ப்பாகக் கருதப்படுவது
- 1) புதிய உற்பத்தி முறைகள் 2) புதிய நகரங்களை உருவாக்கல்
3) போட்டியாளர்கள் உருவாதல் 4) பயிற்சி பெற்ற பணியாளர்

செயற்பாடு :-01

- ❖ தற்போதைய கொரணா (கொவிட் 19) நோய்த் தொற்று காரணமாக உள்நாட்டு வணிகங்களின் அக மற்றும் புறச் சூழலில் ஏற்பட்ட தாக்கம் தொடர்பாக SWOT பகுப்பாய்வு ஒன்றினை மேற்கொள்க

Political factors:

- Political stability
- Government support
- Taxation
- Infrastructure
- Enhancing skills
- Membership of international trading communities

Demographic Environment

- Age structure.
- Gender.
- Income distribution.
- Family size.
- Family life cycle.
- Occupation.
- Education.
- Social class.



Economic Environment

The external economic factors that influence consumer and business buying habits, and therefore also company performance.

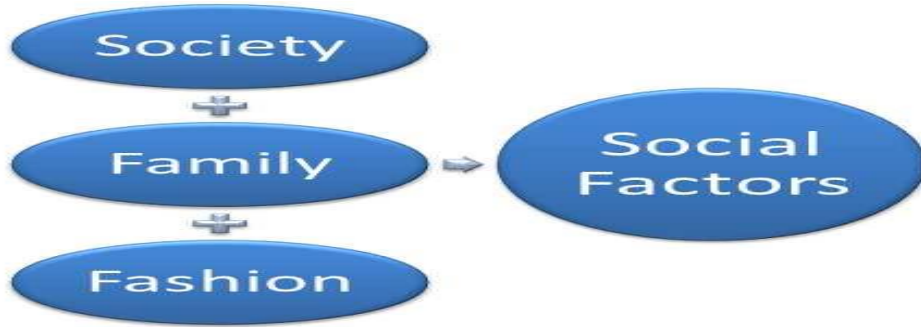
Microeconomic Factors

Competitors
Demand
Market size
Supply
Suppliers
Distribution chain

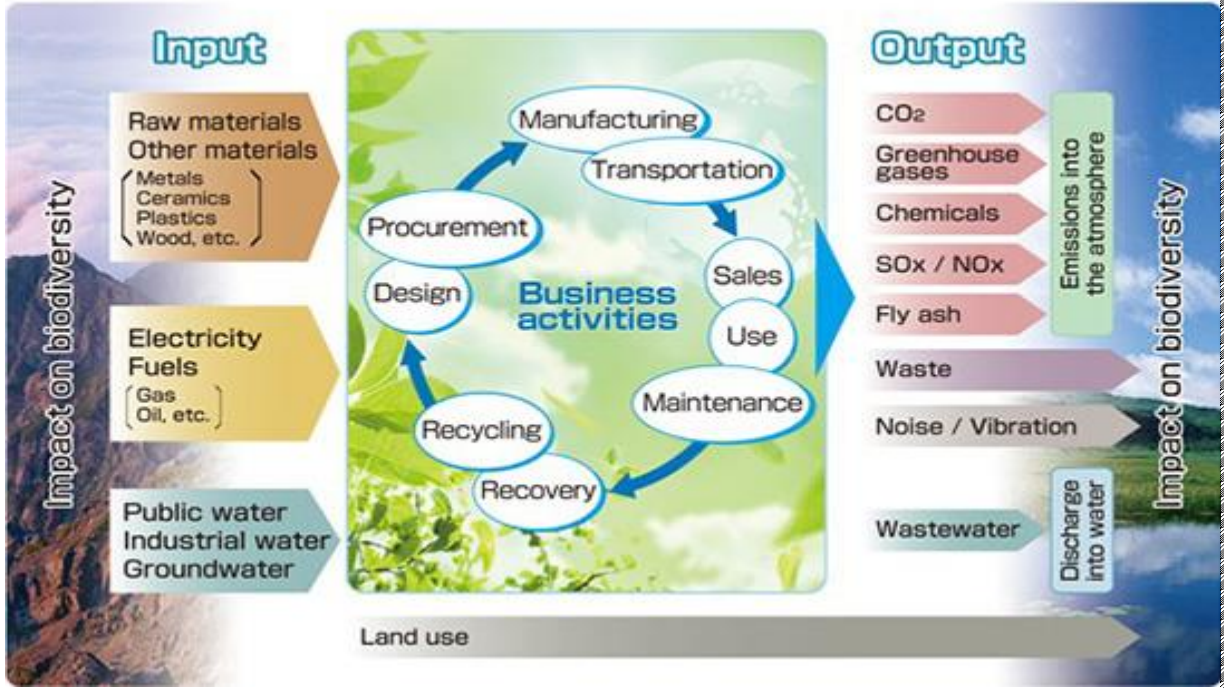
Macroeconomic Factors

Unemployment
Inflation
Interest rates
GDP
Exchange rates
Consumer confidence

**Factors
in the
Economic
Environment**



Relationship between Business Activities and Biodiversity



பகுதி 11

1. வணிகச்சூழல் என்றால் என்ன?
2. வணிகச்சூழலின் இருவகைகளையும் குறிப்பிடுக.
3. வணிகச் சூழலில் புறச் சூழலில் உள்ளடங்கும் காரணிகள் நான்கினைக் குறிப்பிடுக.
4. வணிகமொன்றில் காணக்கூடிய பலங்களுக்கு நான்கு உதாரணம் தருக.
5. வணிகமொன்று எதிர் நோக்கக் கூடிய அச்சுறுத்தலுக்கு நான்கு உதாரணம் தருக.
6. பின்வரும் சட்டதிட்டங்களை செயற்படுத்துவதற்காக உருவாக்கப்பட்டுள்ள பதவிகள் அல்லது நிறுவனங்களின் பெயர்களைக் குறிப்பிடுக.
 - (அ) 2007 ஆம் ஆண்டு 07 ஆம் இலக்க கம்பனிச் சட்டம்
 - (ஆ) 2003 ஆம் ஆண்டு 09 ஆம் இலக்க பாவனையாளர் அலுவல்கள் அதிகாரசபைச் சட்டம்.
7. சிறிய அளவிலான இரசாயன மருந்துகள் பாவிக்காத பழச்செய்கை உற்பத்தி மற்றும் விற்பனையில் ஈடுபடும் உற்பத்தியாளர் என உம்மைக் கருதி உமது வணிக நடவடிக்கைகளில் எதிர்கொள்ளும் பலம், பலவீனம், வாய்ப்பு மற்றும் அச்சுறுத்தலுக்கு உதாரணங்கள் ஒவ்வொன்று வீதம் தருக.
8. (அ) பொருளாதாரச் சூழல் காரணிகளுக்கு நான்கு உதாரணம் தருக.
 - (ஆ) உள்நாட்டு வணிகத்தில் பூகோளமயச் சூழலினால் ஏற்படும் சாதகமான விளைவுகள் இரண்டு தருக.
9. விலங்கு வேளாண்மை தொடர்பாக டிப்ளோமா பட்டம் பெற்ற ரொசான் என்பவர் இயற்கை உணவு வகைகளுக்கான அதிகரித்த கேள்வியினைக் கருத்தில்கொண்டு இரண்டு தொழிலாளர்களை வேலைக்கமர்த்தி விலங்கு பண்ணை ஒன்றை நடாத்தி வருகின்றார்.
 - (அ) சம்பவத்தில் குறிப்பிடப்படும் அகச்சூழல் காரணிகள் இரண்டு தருக.
 - (ஆ) ரொசானின் வணிகத்தில் இனங்காணக்கூடிய பலம் மற்றும் வாய்ப்பு ஒவ்வொன்று தருக.
10. கயல் என்பவர் பிரபலமான பாடசாலைக்கு அருகில் பாடசாலை எழுதுகருவிகள் மற்றும் காகிதாதிகளை விற்பனை செய்யும் வணிகத்தினை நடாத்தி வருகின்றார். அண்மையில் அவருடைய வணிக நிறுவனத்திற்கு அருகில் மேலும் ஒரு புத்தகங்கள் விற்பனை செய்யும் வர்த்தக நிலையம் ஆரம்பிக்கப்பட்டுள்ளது. கயல் வணிகத்தின்
 - (அ) வாய்ப்புக்கள் மற்றும்
 - (ஆ) அச்சுறுத்தல்களைக் குறிப்பிடுக?

வணிக அமைப்புகள் Business organization

1. இலங்கை துறைமுக அதிகாரசபை, வெளிநாட்டு வேலைவாய்ப்பு பணியகம் என்பன பாராளுமன்றத்தில் நிறைவேற்றப்பட்ட பொதுவான சட்டம் அல்லது விசேட சட்டங்களின் அடிப்படையில் உருவாக்கப்படுகின்றன. அதனடிப்படையில் மேற்கூறிய நிறுவனங்கள் எவ்வணிக அமைப்பினுள் உள்ளடங்குகின்றன?
 - 1) கூட்டுறவுச் சங்கம்
 - 2) அரச திணைக்களங்கள்
 - 3) கூட்டிணைக்கப்பட்ட கம்பனிகள்
 - 4) அரச கூட்டுத்தாபனங்கள்
2. பின்வரும் வணிகம் தொடர்பான சட்டங்களில் பங்குடமை வணிகம் ஒன்றுடன் தொடர்புபடாத சட்டத்தினைக் குறிப்பிடுக.
 - 1) 1890 ஆம் ஆண்டு பங்குடமை கட்டளைச் சட்டம்
 - 2) 2007 ஆம் ஆண்டு 7 ம் இலக்க கம்பனிச் சட்டம்
 - 3) 1840 ஆம் ஆண்டு மோசடி தவிர்ப்புச் சட்டளைச் சட்டம்
 - 4) 1972 ஆம் ஆண்டு 05 ஆம் இலக்க கூட்டுறவுச் சட்டம்
3. இலாபநோக்குள்ள பொதுத்துறை வணிகமாக அமைவது.
 - 1) அரச கம்பனி
 - 2) கூட்டுறவு
 - 3) பங்குடமை
 - 4) சங்க வகைகள்
4. நட்டப்பொறுப்பு வரையறுக்கப்பட்ட, சட்ட ஆளுமையுடைய இலாப நோக்கம் உடைய தனியார் துறை வணிக அமைப்பாக அமைவது.
 - 1) தனியாள் உரிமை
 - 2) பங்குடமை
 - 3) கூட்டுறவு
 - 4) கூட்டிணைக்கப்பட்ட கம்பனி
5. ராகுலன் என்பவர் தனது கட்டிட பொருட்கள் விற்பனை நிலையத்தை 'சக்தி' எனும் பெயரில் பதிவு செய்வதற்கு எதிர்பார்க்கின்றார். இப்பதிவுச் சான்றிதழை வழங்கும் நிறுவனம்,
 - 1) பிரதேச சபை
 - 2) கம்பனி பதிவாளர் திணைக்களம்
 - 3) நுகர்வோர் அலுவல்கள் அதிகார சபை
 - 4) பிரதேச செயலகம்
6. குடிசன மதிப்பீட்டு திணைக்களத்தின்படி 25க்குக் குறைந்த ஊழியர்களை உள்ளடக்கியது
 - 1) தனியுடமை வியாபாரம்
 - 2) சிற்றளவு வணிகம்
 - 3) பங்குடமை வியாபாரம்
 - 4) சிறிய மற்றும் நடுத்தர வியாபாரம்
7. வணிகமொன்றை தெரிவு செய்யும் போது கருத்திற்கொள்ளும் காரணிகளாவன.
 - 1) நோக்கம், அளவு மற்றும் முகாமை யார் செய்வது என்பது
 - 2) சிறியளவு, பேரளவு மற்றும் முகாமை யார் செய்வது என்பது
 - 3) மூலதனம், அளவு மற்றும் உரிமை
 - 4) நோக்கம், பதிவு செய்தல் மற்றும் முகாமை
8. கீழே காட்டப்பட்டுள்ள வணிக அமைப்புகளில் இலாப நோக்கமுடைய வணிக அமைப்புகளை மட்டும் உள்ளடக்கிய விடையைத் தெரி்க.

A. கூட்டிணைக்கப்பட்ட கம்பனி	D. அரச கூட்டுத்தாபனம்
B. தனியுடமை	E. பங்குடமை
C. அரச திணைக்களம்	

 - 1) A, B, E,
 - 2) A, B, C
 - 3) A, C, D
 - 4) B, C, E
9. பங்குடமையொன்றில் இருக்கக்கூடிய ஆகக் கூடிய பங்காளரின் எண்ணிக்கையை வரையறுக்கும் சட்டம்.
 - 1) 1890ம் பங்குடமைச் சட்டம்
 - 2) 2007ம் ஆண்டு 7ம் கம்பனி சட்டம்
 - 3) மோசடி தவிர்ப்பு சட்டம்
 - 4) 1972 5ம் கூட்டுறவுச் சட்டம்

10. “அம்பாள் ஸ்டோர்ஸ்” வியாபாரத்தின் பெயரை பதிவு செய்வது கட்டாயமானதாகும். என உரிமையாளரான சரவணனுக்கு ஆலோசனை வழங்கப்பட்டது. இதற்கான காரணமாக அமைவது,
- 1) வியாபாரத்திற்கான சட்ட அந்தஸ்தை பெற்றுக்கொள்ள.
 - 2) அரசினால் வழங்கப்படும் உதவிகளை பெற்றுக்கொள்ள.
 - 3) உரிமையாளரின் முழுப்பெயரில் அல்லாமல் வேறு பெயரில் வணிகத்தை நடாத்திச்செல்லல்.
 - 4) அவருடைய பெயருக்கு சமனான பெயரில் வணிகத்தை நடாத்திச்செல்லல்.
11. பின்வரும் வணிக அமைப்புகளுள் பொதுத்துறை வணிகமாக கருதப்படக்கூடிய வணிக அமைப்புச் சோடியினைத் தெரிவு செய்க.
- 1) அரசகூட்டுத்தாபனம், அங்கீகார வணிகம்
 - 2) பங்குடமைவணிகம், தனியுடைமை வணிகம்
 - 3) அரச திணைக்களங்கள், மாகாண சபை, உள்ளூராட்சி மன்றங்களின் கீழ் இயங்கும் வணிகம்
 - 4) சங்க வகை வணிகம், அரச கம்பனிகள்
12. பொதுத்துறையைச் சேர்ந்த முழுமையாக சேவை நோக்கம் கொண்ட, சட்ட ஆளுமையற்ற அமைப்பிற்கு சிறந்த உதாரணமாக அமைவது,
- 1) அரச திணைக்களம்
 - 2) அரச கூட்டுத்தாபனம்
 - 3) அரச கம்பனிகள்
 - 4) கூட்டுறவு வணிகம்
13. தனியுடைமை வணிகம் தொடர்பான பிழையான கூற்றாக அமைவது,
- 1) இலாபம் முழுவதும் தனி ஒருவரே அனுபவிக்கலாம்
 - 2) சட்ட ஆளுமை இல்லை
 - 3) நட்டப்பொறுப்பு வரையறுக்கப்பட்டது
 - 4) நட்டப்பொறுப்பு வரையறுக்கப்படாதது
14. ‘கமலன் அன்ட் விமலன் சகோதரர்கள்’ என்னும் வணிகம் எவ்வியாபார அமைப்பைச் சேர்ந்தது,
- 1) தனியுடைமை
 - 2) கூட்டிணைக்கப்பட்ட கம்பனிகள்
 - 3) பங்குடைமை
 - 4) கூட்டுறவு வணிகம்
15. சட்டத்தின்படி பதிவு கட்டாயமாக்கப்படாத நிறுவனங்களைக் கொண்ட தொகுதியாக அமைவது,
- 1) தனியுடைமை, கூட்டுறவு வணிகம்
 - 2) கூட்டுறவு வணிகம், கூட்டிணைக்கப்பட்ட கம்பனிகள்
 - 3) பங்குடைமை வணிகம், கூட்டிணைக்கப்பட்ட கம்பனிகள்
 - 4) பங்குடைமை வணிகம், தனியுடைமை வணிகம்
16. கூட்டுறவு அமைப்பில் காணப்படக் கூடிய விசேட பண்பாகக் கருதப்படக்கூடியது,
- 1) இலாபமும், உரிமையும் அதிகமானவர்களிடையே பகிரப்படல்
 - 2) சுயமான திறந்த அங்கத்துவம் காணப்படல்
 - 3) நட்டப்பொறுப்பு வரையறுக்கப்படாதிருத்தல்
 - 4) ஆகக் குறைந்த அங்கத்தவர் எண்ணிக்கை இரண்டாகக் காணப்படல்
- ❖ வணிக அமைப்புகளின் வகைகள் சில கீழே தரப்படுகின்றன. தரப்பட்ட தகவல்களை அடிப்படையாகக் கொண்டு 17- 22 வரையான வினாக்களுக்கு விடையளிக்குக.
- | | |
|--------------------------------|----------------------|
| A. தனியாளர் உரிமை வணிகம் | D. பங்குடைமை வணிகம் |
| B. கூட்டிணைக்கப்பட்ட கம்பனிகள் | E. அரச திணைக்களங்கள் |
| C. அரச கூட்டுத்தாபனங்கள் | |
17. மேற்குறிப்பிட்ட வணிக அமைப்புகளில் இலாப நோக்கற்ற பொதுத்துறை வணிக அமைப்புகளாகக் கருதப்படுபவை,
- | | | | |
|---------|---------|---------|---------|
| 1) A, B | 2) B, C | 3) C, E | 4) C, D |
|---------|---------|---------|---------|
18. வாண்மைத்தொழிலில் ஈடுபடுபவர்கள் ஆரம்பிப்பதற்கு பொருத்தமான வணிக அமைப்பு,
- | | | | |
|------|------|------|------|
| 1) A | 2) D | 3) C | 4) E |
|------|------|------|------|

31. சனநாயக நிர்வாக அடிப்படையில் இயங்கும் வணிக அமைப்பு.
1) தனியாள் உடமை 2) பங்குடமை 3) கூட்டுறவு 4) கம்பனி
32. பங்குடமையொன்றில் பங்காளரது உச்ச எண்ணிக்கை 20 பேர் என குறிப்பிடப்படும் சட்டம்.
1) பங்குடமைச் சட்டம்
2) 2007ம் 7ம் இலக்க கம்பனிச் சட்டம்
3) மோசடி தவிர்ப்புச் சட்டம்
4) 1918ம் ஆண்டு 6ம் இலக்க வியாபார பெயர்ப்பதிவுக் கட்டளைச் சட்டம்
33. பாராளுமன்றத்தின் நிறைவேற்றப்பட்ட பொதுவான சட்டங்களின் அடிப்படையில் உருவாக்கப்படுகின்ற அமைப்பாக கருதக்கூடியது.
1) அரசு கூட்டுத்தபனங்கள் 2) நலன்புரிச் சங்கங்கள் 3) கம்பனி 4) பங்குடமை
34. குறைந்த மூலதனம், குறைவான சட்டதிட்டங்களுடன் ஆரம்பிக்கக்கூடிய வணிகம் எது?
1) சிற்றளவு வணிகம் 2) பேரளவு வணிகம் 3) வியாபாரம் 4) அரசு திணைக்களங்கள்
35. தனியாள் உரிமை வணிகத்தினை பதிவு செய்ய வேண்டுமாயின் எச்சட்டத்தின் பிரகாரம் பதிவு செய்ய வேண்டும்.
1) 2007ம் ஆண்டு 7ம் இலக்க கம்பனிச் சட்டம்
2) 1918ம் ஆண்டு 6ம் இலக்க வியாபார பெயர்ப்பதிவு கட்டளைச் சட்டம்
3) 1890ம் பங்குடமைச் சட்டம்
4) மோசடி தவிர்ப்புக் கட்டளைச் சட்டம்
36. பங்குடமை வணிகத்தின் பங்காளரது எண்ணிக்கையாகக் கருதப்படுவது.
1) 1 – 50 பேர் 2) 2 – 20 பேர் 3) 2 பேர் 4) 7 பேர்
37. கூட்டிணைக்கப்பட்ட கம்பனி எச்சட்டத்தின் பிரகாரம் பதிவுசெய்தல் வேண்டும்.
1) 1918 ம் ஆண்டு 6ம் இலக்க வியாபார பெயர்ப்பதிவு கட்டளைச் சட்டம்
2) 2007 ம் ஆண்டு 7ம் இலக்க கம்பனிச் சட்டம்
3) 1890 ம் ஆண்டு பங்குடமைச் சட்டம்
4) 1972 ம் ஆண்டு 5 ஆம் இலக்க கூட்டுறவுச் சட்டம்
38. அண்மையில் அரசினால் பெற்றொலின் விலை குறைப்பு செய்யப்பட்டது எனின் இது எச்சூழல் தொகுதியைச் சார்ந்தது?
1) அரசு சட்டச் சூழல் 2) பொருளாதரச் சூழல்
3) சமூக கலாச்சார மூழல் 4) தொழில்நுட்ப சூழல்
39. பின்வருவனவற்றுள் எது இலாபநோக்குடைய ஒரு பொதுத்துறைவணிக அமைப்பாகும்?
1) கூட்டுறவு 2) அரசு கம்பனி
3) அரசு கூட்டுத்தபனம் 4) வரையறுக்கப்பட்ட பொதுக் கம்பனி
40. அதிகளவு மூலதனத்தையும் அதிகளவு ஊழியர்களையும் கொண்ட கைத்தொழில் முறை
1) சிற்றளவு வணிகம் 2) பேரளவு வணிகம்
3) நடுத்தர வணிகம் 4) குடிசைக் கைத்தொழில்
41. மூலதனமானது உரிமையாளராகிய தனிநபரால் மட்டும் அனுபவிக்கப்படும் வணிக அமைப்பு எது?
1) பங்குடமை 2) தனியாள் உரிமை 3) கம்பனி 4) கூட்டுறவு
42. பங்குடமையானது ரூ.1000 அல்லது அதற்கு மேற்பட்டு காணப்படின் எழுத்து மூலமான ஒப்பந்தத்தைக் கொண்டிருக்க வேண்டும் என வலியுறுத்தும் சட்டம்,
1) பங்குடமைச் சட்டம் (1890)
2) மோசடி தவிர்ப்புக் கட்டளைச் சட்டம்
3) கம்பனிச் சட்டம் (2007ம் 7ம் இல)
4) 1972ம் 5ம் இல கூட்டுறவுச் சட்டம்

43. தனியுடமை வணிகத்தின் பெயர் எவ்வாறு அமையப் பெறலாம்?
 1) வரையறுக்கப்பட்ட கம்பனி 2) ஸ்டோர்ஸ் 3) திணைக்களம் 4) கூட்டுத்தாபனம்
44. கடை காரியாலய ஊழியர் சட்டம் எத்தனையாம் ஆண்டு நடைமுறைப்படுத்தப்பட்டது?
 1) 2003ம் 9ம் இல 2) 2007ம் 7ம் இல 3) 1954ம் 14 ம் இல 4) 1972ம் 5ம் இல
45. பாடசாலையில் இயங்கக்கூடிய சங்க வகை அமைப்பு எனக் கருதப்படுவது,
 1) விவசாயக் கழகம் 2) விளையாட்டுக் கழகம் 3) பழைய மாணவர் சங்கம் 4) மின்சார சபை
46. தனியுடமை வணிகங்கள் அதிகமாகக் காணப்படுவதற்கான பிரதான காரணம் யாது?
 1) சட்ட ரீதியான பிரச்சினை எழாமை
 2) ஆரம்பிப்பதும் நடாத்திச் செல்வதும் இலகுவானது
 3) வரையறையற்ற இலாபம் கிடைக்கும்
 4) எல்லொரது விருப்பத்திற்கிணங்க தெரிவு செய்யப்பட்டிருக்கும்
- பின்வரும் தகவல்களின் அடிப்படையில் 47 – 49 வரையான வினாக்களுக்கு விடை தருக.
 A – பங்குடமை B - கூட்டிணைக்கப்பட்ட கம்பனி
 C – அரசகம்பனி D- அரச திணைக்களம்
 E- கூட்டுறவுச் சங்கம் F- கூட்டுத்தாபனம்
 இலாப நோக்கங் கொண்ட தனியார் துறை அமைப்புக்களைக் கொண்ட தொகுதியாக அமைவது
 1) A, B, E 2) A, B 3) A, E 4) E, F
47. இலாப நோக்கங்களைக் கொண்ட பொதுத்துறை அமைப்பு
 1) C 2) D 3) E 4) F
48. பாராளுமன்ற விசேட சட்டம் அல்லது பொதுச்சட்டம் மூலம் உருவாக்கப்படுவது
 1) A 2) B 3) E 4) F
49. ஜனநாயக நிர்வாக பண்பைக் கொண்ட அமைப்பு
 1) E 2) A 3) D 4) C
50. விவசாயக் காப்புறுதிச் சபை எந்நிறுவன அமைப்பாகக் கொள்ளப்படும்.
 1) திணைக்களம் 2) அரசகம்பனி 3) கூட்டுத்தாபனம் 4) தனிவியாபாரம்

செயற்பாடு:- 01

சில வணிக நிறுவனங்களின் பெயர்கள் சில கீழே தரப்படுகின்றது.

- வரையறுக்கப்பட்ட ரெலிக்கொம் கம்பனி
- குமரன் ஸ்டோர்ஸ்
- கமலன் அன்ட் சகோதரர்கள்
- இலங்கை தபால் திணைக்களம்
- பல்கலைக்கழக மானியங்கள் ஆணைக்குழு
- இலங்கை துறைமுக அதிகார சபை
- பலநோக்கு கூட்டுறவுச் சங்கம்

1. மேற்காட்டிய வணிக அமைப்பு வகைகளின் பெயர்களைக் குறிப்பிடுக.
2. அவ்வணிக அமைப்புக்களை உரிமை அடிப்படையில் வகைப்படுத்திக் காட்டுக.
3. மேற்படி வணிக அமைப்புக்களை நோக்க அடிப்படையில் வகைப்படுத்திக் காட்டுக.
4. மேற் காட்டிய வணிக நிறுவனங்களில் சட்ட ரீதியான தனிமனித அந்தஸ்துடன் கூடிய வணிக நிறுவனங்கள் எவையெனக் கூறுக.
5. இவ்வணிகங்கள் மூலதனத்தை பெற்றுக் கொள்ளும் முறைகளைத் தனித்தனியாகக் காட்டுக.
6. மேற்படி வணிக அமைப்புக்களில் தனியார்துறை அமைப்புக்கள் பதிவு செய்யவேண்டிய சட்டங்களைக் குறிப்பிடுக.

பகுதி11

1. வணிக அமைப்புக்களை பாய்ச்சல் கோட்டு வரைபடம் மூலம் வகைப்படுத்திக் காட்டுக.
2. தனியுரிமை வணிகத்தையும், பங்குடைமை வணிகத்தையும் வேறுபடுத்துக.
3. பங்குடைமை, கூட்டிணைக்கப்பட்ட கம்பனிகளுக்கிடையிலான வேறுபாடுகள் 4 தருக.
4. பங்குடைமை ஒப்பந்தம் என்றால் என்ன?
5. பங்குடைமை ஒப்பந்தம் ஒன்று எவ்வகையில் உருவாக்கப்படுகிறது?
6. பங்குடைமை ஒப்பந்தம், பங்குடைமை உறுதி என்பவற்றுக்கிடையிலான வேறுபாடு யாது?
7. கூட்டுறவுச் சங்கத்தின் பண்புகள் 4 தருக ?
8. நிறுவன அமைப்புக்களை நோக்க அடிப்படையில் வகைப்படுத்துக ?
9. இலாபநோக்கற்ற தனியார்துறை அமைப்புக்கள் இரண்டின் பெயர்களைக் குறிப்பிடுக.
10. பங்குடைமை தொழிலில் ஈடுபடும் வாண்மைத்தொழில்கள் நான்கு தருக.
11. தனியுரிமை வணிகத்தைப் பதிவு செய்வதற்கு சமர்ப்பிக்க வேண்டிய 2 படிவங்களைக் குறிப்பிடுக?
12. வணிகம் ஒன்றைப் பதிவு செய்வதனால் கிடைக்கக்கூடிய அனுசூலங்கள் 4 தருக ?
13. பங்குடைமை ஒன்றில் பங்காளரது உச்ச எண்ணிக்கை 20 பேர் என வரையறுக்கும் சட்டத்தைக் குறிப்பிடுக.
14. பிரபல பாடசாலைக்கு அண்மையில் இந்திரன் என்பவர் காகிதாதிப் பொருட்களை விற்பனை செய்யும் வணிகமொன்றை 'சேகரம் புத்தகசாலை' என்னும் பெயரில் நடாத்தி வருகின்றார்.
(அ) மேற்குறித்த வணிகம் எவ்வணிக அமைப்பைச் சார்ந்தது?
(ஆ) மேற்படி வணிகத்தை பதிவு செய்வது தொடர்பான சட்டத்தேவைப்பாட்டிணைக் குறிப்பிடுக.
15. வணிக அமைப்புக்களின் பண்புகள் சில கீழே தரப்படுகின்றன.
A. அங்கத்தவர் நலன் கருதி செயற்படுகின்றமை
B. சட்டஆளுமை காணப்படுதல்
C. நட்டப்பொறுப்பு வரையறுக்கப்பட்டுள்ளது
D. மிகை அங்கத்தவர்களிடையே பகிரப்படல்
E. நட்டப்பொறுப்பு பரவலாக்கப்பட்டுள்ளது

(அ) மேற்கூறிய பண்புகளில் கூட்டுறவு வணிக அமைப்புக்களின் பண்புகளைக் குறிக்கும் எழுத்துக்களைக் குறிப்பிடுக.
(ஆ) எழுத்து B, C என்பவற்றினால் குறிக்கப்படும் பண்புகள் எவ்வகை இலாப நோக்குள்ள வணிக அமைப்பிற்கு காணப்படுகின்றது.
16. (அ) அரச திணைக்களங்களின் பண்புகள் இரண்டு தருக.
(ஆ) வணிகமொன்று தனது முகாமைச் செயற்பாடுகளை நபர்கள் பலபேர்களுக்கிடையில் மேற்கொள்ள எதிர்பார்க்கின்றதாயின் எவ்வகை வணிக அமைப்பை குறித்த வணிகம் ஆரம்பிக்க முடியும்.
- ❖ வணிக நிறுவனங்கள் சிலவற்றின் பெயர்கள் கீழே தரப்படுகின்றன.
பிள்ளையார் ஸ்ரோர்ஸ் இலங்கை இறை வரித் திணைக்களம்
வெளிநாட்டு வேலைவாய்ப்பு பணியகம் சில்வா அன்ட் பிறதர்ஸ்
17. மேற்குறிப்பிட்ட வணிக அமைப்புக்கள் எவ்வகை வணிக அமைப்பினைச் சார்ந்தது என்பதைக் குறிப்பிடுக.
18. மேற்குறிப்பிட்ட வணிக அமைப்புக்களை உரிமை அடிப்படையில் வகைப்படுத்துக.
19. மேலே குறிப்பிட்ட வணிக அமைப்புக்கள் மூலதனத்தைப் பெற்றுக்கொள்ளும் வழிமுறைகள் ஒன்று வீதம் தருக.
20. சண்முகம் பிரணவன் என்பவர் ஒரு தையல் கடையொன்றை "ஸ்மார்ட் டெய்லர்ஸ்" எனும் பெயரில் ஆரம்பிக்க உத்தேசித்துள்ளார்.
(அ) இவ்வணிகத்தினை பதிவு செய்தல் வேண்டுமா? காரணம் தருக.
(ஆ) மேலே குறிப்பிட்ட நிறுவனம் பதிவு செய்யப்பட வேண்டுமாயின், பதிவு செய்யப்பட வேண்டியதற்குரிய சட்டத்தினையும் பதிவு செய்யும் அலுவலகத்தையும் குறிப்பிடுக.
21. ரதன் தன்னிடம் உள்ள சிறிய தொகையைப் பயன்படுத்தி "ரதி புடைவை வணிகம்" என்ற பெயரில் வணிகம் ஒன்றை ஆரம்பித்தார்.
(அ) ரதனின் வணிகத்தை பதிவு செய்வது தொடர்பான உமது கருத்தினைக் குறிப்பிடுக.
(ஆ) ரதனின் வணிகத்தில் விஷேடமாக காணப்படும் பண்புகள் இரண்டினைக் குறிப்பிடுக.

22. க.பொ.த உயர்தரம் கற்ற ரவி, வாசு, கீதன் ஆகிய மூவரும் இணைந்து அலுவலகங்கள், மற்றும் பாடசாலைக்கு பாதுகாப்பு புகைப்படக் கருவி (CCTV Camera) இணைக்கும் வணிகமொன்றை ஆரம்பிக்க திட்டமிட்டுள்ளதுடன், மேற்குறித்த வணிகத்தினை சட்ட ஆளுமையுள்ள, நட்டப்பொறுப்பு வரையறுக்கப்பட்ட வணிகமாக ஆரம்பிப்பது சிறப்பானது என எண்ணுகின்றார்.
- அ. மேற் குறித்த மூன்று நண்பர்களுக்கும் நீங்கள் சிபார்சு செய்யும் சிறந்த வணிக அமைப்பினைக் குறிப்பிடுக.
- ஆ. மேலே (அ) வில் குறிப்பிட்ட வணிக அமைப்பில் காணப்படும் சாதகமான அம்சம் ஒன்றினையும் பாதகமான விடயம் ஒன்றினையும் குறிப்பிடுக.
23. கலைமகள் வித்தியாலயத்தின் வணிகப் பிரிவு மாணவர்கள் தமது பாடசாலையில் மாணவர்களுக்கான காகிதாதி, எழுது பொருட்களை குறைந்த விலையில் பெற்றுக் கொடுக்கும் நோக்குடன் பாடசாலை கூட்டுறவுச் சங்கம் ஒன்றை ஆரம்பிக்க எண்ணுகின்றனர்.
- ஆ. கூட்டுறவுச் சங்கம் என்பதனால் கருதப்படுவது யாது?
- ஆ. கூட்டுறவுச் சங்கத்தினை பதிவு செய்வதற்கான சட்டத்தினைக் குறிப்பிடுக.
24. தேவராஜா என்பவர் ஒரு தையல் கடையொன்றை “தேவா டெய்லர்ஸ்” எனும் பெயரில் ஆரம்பிக்க உத்தேசித்துள்ளார்.
- 1) இவ்வணிகத்தினை பதிவு செய்தல் வேண்டுமா? ஏன்? காரணம் தருக.
- 2) மேலே குறிப்பிட்ட நிறுவனம் பதிவு செய்யப்படுமாயின், பதிவு செய்யப்பட வேண்டிய உரிய சட்டத்தினையும் பதிவு செய்யும் அலுவலகரையும் குறிப்பிடுக.
- 3) தனியுடமை வணிகத்தினை பதிவு செய்வதற்கான படிமுறைகளைத் தருக.
25. பின்வருவனவற்றுடன் தொடர்புடைய சட்டங்களைக் குறிப்பிடுக.
- அ. பங்குடமை மீது செல்வாக்குச் செலுத்தும் சட்டம்.
- ஆ.. பங்குடமையை பதிவு செய்வதற்கான சட்டம்.
- இ. பங்குடமையின் உச்சபங்காளரை வரையறுக்கும் சட்டம்

விடய ஆய்வு வினாக்கள்

- பின்வரும் சம்பவத்தை அவதானித்து 1 தொடக்கம் 5 வரையான வினாக்களுக்கு விடையெழுதுக. சுபத்திரா என்பவர் தையற்கலை தொடர்பான டிப்ளோமா பட்டம் ஒன்றை பெற்றிருந்ததுடன், இணையவழி மற்றும் கணினியின் உதவியுடன் ஆடைகளை வடிவமைத்து விற்பனை செய்யும் வணிகமொன்றை ‘ஸ்மார்ட் ஆடையகம்’ என்னும் பெயரில் நாடாத்தி வருகின்றார்.
- இச்சம்பவத்தில் ‘ஸ்மார்ட் ஆடையகம்’ வணிகத்தின் மூலம் திருப்தி செய்யப்படும் அடிப்படை மனிததேவை எது?
 - சுகாதாரம்
 - உடை
 - சுடிதார்
 - கல்வி
 - மேற்படி வணிகத்தில் உள்ளகரீதியாக அக்கறை கொள்ளும் தரப்பினராகக் கருதப்படக்கூடியவர்,
 - ஆடைகளை கொள்வனவு செய்யும் வாடிக்கையாளர்
 - குறித்த வணிகத்திற்கு துணிகளை வழங்கும் வழங்குநர்
 - குறித்த வணிகத்தின் உரிமையாளரான சுபத்திரா
 - குறித்த வணிகத்திற்கு போட்டியாளராக செயற்படும் வேறு ஆடை உற்பத்தி நிறுவனங்கள்
 - சுபத்திரா தையற்கலை தொடர்பாக டிப்ளோமா பட்டம் பெற்றிருந்தமையானது அவ்வணிகத்திற்கு ஒரு,
 - பலமாகும்.
 - பலவீனமாகும்.
 - வாய்ப்பாகும்.
 - அச்சுறுத்தலாகும்.
 - ‘ஸ்மார்ட் ஆடையகம்’ வணிகம் தொடர்பாக சட்டத்தேவைப்பாடாகக் கருதப்படுவது,
 - 2007 ஆம் ஆண்டு 7 ஆம் இலக்க கம்பனிச் சட்டத்தின் கீழ் பதிவு செய்யப்படல் வேண்டும்.
 - 1918 ஆம் ஆண்டு 6 ஆம் இலக்க வணிகப்பெயர்ப்பதிவுக் கட்டளைச் சட்டத்தின் கீழ் பதிவு செய்யப்படல்வேண்டும்.
 - 1890 ஆம் ஆண்டு பங்குமைக் கட்டளைச் சட்டத்தின் கீழ் பதிவு செய்யப்படல் வேண்டும்.
 - பதிவு செய்ய வேண்டிய கட்டாயமில்லை.
 - மேற்குறித்த வணிகத்திடம் காணப்படும் தையல் இயந்திரங்கள் உள்ளடங்கும் உற்பத்திக் காரணியாக அமைவது,
 - நிலம்
 - மூலதனம்
 - உழைப்பு
 - முயற்சி

❖ கீழே தரப்பட்டுள்ள கூற்றுக்கள் சரியாயின் ‘ சரி’ எனவும் பிழையாயின் ‘ பிழை’ எனவும் தரப்பட்ட அடைப்பினுள் அடையாளமிடுக.

01. ஒரு வணிகத்தின் ஒரே விதமான பொருட்கள், சேவைகளை உற்பத்தி அல்லது விநியோகம் செய்யும் தரப்பினர் ஊழியர் ஆவார். ()
02. நுகர்வோரின் வாழ்க்கை மாற்றங்களானது வணிகத்திற்கு வாய்ப்புக்களாக காணப்படும் அதேவேளை இயற்கை சூழலுக்கு அச்சுறுத்தலாக அமைகிறது. ()
03. 1980 ம் ஆண்டு பங்குடைமை சட்டத்தின் படி பங்குடைமை வணிகத்தின் ஆகக் கூடுதலான பங்காளர்கள் எண்ணிக்கை 20 ஆகும். ()
04. இலங்கை துறைமுக அதிகார சபை, விவசாய காப்புறுதிச்சபை, இலங்கை வெளிநாட்டு வேலைவாய்ப்பு பணியகம் என்பன அரசு கம்பனிகளுக்கு உதாரணங்களாகும். ()
05. தனியார் வணிகமானது பதிவு செய்யப்பட்ட பின் வியாபார பதிவுச் சான்றிதழானது வியாபார நிறுவனத்தில் காட்சிப்படுத்தல் வேண்டும். ()
06. தனிவியாபாரம் ஆரம்பித்து 14 நாட்களுக்குள் பதிவு செய்ய வேண்டும். ()
07. இலங்கை மின்சார சபை ஒரு கூட்டுத்தாபனம் ஆகும். ()
08. உரிமையாளர் முகாமையாளராகக் கருதப்படுவர். ()
09. முகாமைத்துவ கருமங்களுள் மூலதனமிடல், திட்டமிடல், ஒழுங்கமைத்தல் என்பன காணப்படும். ()
10. உற்பத்திக் காரணிகளில் மூலதனமும் ஒன்றாகும். ()
11. நாட்டின் பொருளாதார விருத்திக்கு தேவையான கொள்கைகளை வகுப்பது நிதி நிறுவனங்களாகும். ()
12. வரவு செலவுத் திட்ட கொள்கைகள் அரசியல் சூழலுக்குள் உள்ளடங்கும். ()
13. வினைத்திறன் கொண்ட இயந்திரங்களை பெற்றுக் கொள்ளல் தொழில்நுட்பச் சூழலுக்குள் உள்ளடங்கும். ()
14. தனியுடமை, பங்குடைமை என்பன சட்டஆளுமையுடைய அமைப்புக்களாகும். ()
15. கூட்டிணைக்கப்பட்ட பொதுக்கம்பனிகள் பங்குகளை வழங்கி மூலதனத்தைத் திரட்டலாம். ()
16. 1972 ம் ஆண்டு 5ம் இலக்கச் சட்டத்தின்படி கூட்டுத்தாபனத்தை பதிவு செய்யலாம். ()
17. பாராளுமன்றத்தில் நிறைவேற்றப்படும் விசேட சட்ட மூலம் திணைக்களங்கள் உருவாக்கப்படும். ()
18. உடமையாளர்கள், முகாமையாளர், ஊழியர்கள் மற்றும் போட்டியாளர் ஆகியோர் வணிகமொன்றின் அகச் சூழல் காரணிகளாவர். ()
19. உணவு, உடை, கல்வி ஆகியன மட்டும் மனிதனின் அடிப்படைத் தேவைகள் ஆகும். ()
20. உற்பத்திக் காரணிகள் நிலம், உழைப்பு, மூலதனம், முயற்சியாண்மை என வகைப்படுத்தப்படும். ()
21. வணிகங்கள் அவற்றின் நோக்கங்களின் அடிப்படையில் பிரதானமாக பொதுத்துறை வணிகங்கள், தனியார் துறை வணிகங்கள் என வகைப்படுத்தலாம். ()
22. இலத்திரனியல் வணிகத்தினூடாக இன்று முழு உலகமே ‘உலகக் கிராமம்’ (Global Village) என்ற நிலைக்கு மாறியுள்ளன. ()
23. அழகுக் கலை நிலையங்கள் ஒரு சேவை உற்பத்தி வணிகமாகும். ()
24. மேசன் தொழிலாளர்களும் தச்சு வேலை செய்பவர்களும் உடல் உழைப்பினை வழங்கும் தொழிலாளர்கள் ஆவர். ()
25. இலங்கை ஒலிபரப்புக் கூட்டுத்தாபனம் ஒரு தனியார் துறை வணிகமாகும். ()
26. வணிகத்திற்கு அரசினால் வழங்கப்படும் வரிச் சலுகைகள் வணிகத்திற்கு வாய்ப்பொன்றாகும். ()
27. அரசினால் மூலதனமிட்டு அரசிற்கு உடமையாகவுள்ள வணிக அமைப்பு பொதுத்துறை வணிக அமைப்பாகும். ()
28. பங்குடைமை வணிக அமைப்பொன்றில் பங்காளர் உச்ச எண்ணிக்கை 20 பேர் என 2007ம் ஆண்டு 07ம் இலக்க கம்பனிச் சட்டம் குறிப்பிட்டுள்ளது. ()
29. திட்டமிடல், ஒழுங்கமைத்தல், இலாபம் உழைத்தல், பதிவு செய்தல் போன்றன முகாமைத்துவக் கருமங்கள் ஆகும். ()
30. பொருட்கள் சேவைகளை உற்பத்தி செய்வதற்காக வணிகங்களால் பயன்படுத்தப்படும் இயற்கை வளங்கள் மூலதனம் எனப்படும். ()
31. யாதேனும் வணிகமொன்றின் மூலம் உற்பத்தி செய்யப்படும் உற்பத்திப் பொருளுக்கு சமமான பொருட்கள், சேவைகளை உற்பத்தி செய்து சந்தைப்படுத்துவோர் வழங்குநர் ஆவார். ()
32. வணிகமொன்றில் ஊழியர்கள் அகச் சூழலாக காணப்படும் அதேவேளை போட்டியாளர் புறச்சூழல் காரணியாகக் காணப்படுகின்றனர். ()

33. பலநோக்கு கூட்டுறவுச் சங்கமானது உரிமையடிப்படையில் தனியார்துறைக்குரிய அமைப்பாகும்.
34. தேவைகளை உருவாக்க முடியாது. விருப்பங்களை வணிகர்களால் தோற்றுவிக்க முடியும். ()
35. உள்ளகச்சூழலை ஆய்வு செய்வதன் மூலம் வாய்ப்பு, அச்சுறுத்தலை அறிந்து கொள்ள முடியும். ()
36. வணிக அமைப்புக்களை பருமன் அடிப்படையில் வகைப்படுத்தும்போது பயன்படுத்தும் வலுவின் அளவு என்பது அளவு ரீதியான நியதியாகும். ()
37. சுதந்திரமான தீர்மானமெடுத்தல் என்பது பங்குடைமை வணிகத்தில் காணப்படும் அதேவேளை தனியுடைமை வணிகத்தில் காணப்படுவதில்லை. ()
38. உற்பத்திக்காக மனிதனால் உருவாக்கப்பட்டவை மூலதனம் எனப்படும். ()
39. நீர்வழங்கல் வடிகாலமைப்பு சபை, இலங்கை மின்சார சபை என்பன கூட்டுத்தாபன வணிக அமைப்பைச் சார்ந்ததாகும். ()
40. சமூக நல நோக்கம் கொண்ட நிறுவனமாக கூட்டிணைக்கப்பட்ட கம்பனிகளைக் கருத முடியும். ()
41. வணிக உலகில் உற்பத்தி செய்யப்படும் பொருட்கள், சேவைகள் மிக விரைவில் காலவதியாகும் நிலைக்கு தள்ளப்படுவதற்கு காரணமாக அமையும் சூழல் பொருளாதாரச் சூழல் ஆகும். ()

கணக்கீடு (Accounting) கணக்கீட்டுக்கான அறிமுகம்

01. கணக்கீட்டின் பிரதான நோக்கம்
 - 1) இலாப நடட நிலைமை, நிதி நிலைமையினை அறிதல்
 - 2) கொடுக்கல் வாங்கல்களை முதன்மை ஏடுகளில் பதிதல்.
 - 3) பரீட்சை மீதி தயாரித்தல்
 - 4) வணிகத்தின் மீது அக்கறை செலுத்தும் பிரிவினர் தீர்மானங்களை மேற்கொள்வதற்கு பயனுள்ள தகவல்களை வழங்கல்.
02. பின்வருவனவற்றுள் கணக்கேடுகளில் பதிவு செய்யப்படும் தகவலைத் தெரிவு செய்க.
 - 1) வணிகச் சூழல் பாதுகாப்பானது
 - 2) ஊழியர்கள் வினைத்திறன் மிக்கவர்கள்
 - 3) தை மாத வாடகை செலுத்தியது ரூ 10 000
 - 4) வணிகத்தின் வளர்ச்சிப் போக்கு ஆரோக்கியமாக உள்ளது.
03. கணக்கீடு பயனுள்ள தகவல்களை வழங்கும் செயன்முறையாகும். இதன் பிரதான தொழிற்பாடு
 - 1) வணிகத்தின் மீது அக்கறை செலுத்தும் பிரிவினருக்கு தீர்மானமெடுக்க உதவுதல்.
 - 2) கணக்கேடுகளில் பதிவு செய்தல்.
 - 3) இரட்டைப் பதிவைப் பூர்த்தி செய்தல்.
 - 4) பரீட்சை மீதியை தயார் செய்தல்.
04. வணிகமொன்றிற்கு வேறு பிரிவினர்களுக்கும் இடையே நடைபெறும் வளங்களின் கைமாற்றம் அழைக்கப்படுவது
 - 1) இரட்டை விளைவு
 - 2) இரட்டைப்பதிவு
 - 3) வணிகக்கொடுக்கல் வாங்கல்
 - 4) வளஒதுக்கீடு
05. வணிகக் கொடுக்கல் வாங்கலாக கருதப்படமுடியாத நிகழ்வைக் குறிப்பது
 - 1) ரூபா 50000 க்கு மீள்விற்பனைக்கு பொருள் கொள்வனவு
 - 2) ரூபா 25000 க்கு கடனுக்கு பொருள் விற்பனை
 - 3) முகாமையாளருக்கு ரூபா 15000 மாதாந்தம் கொடுப்பது என தீர்மானிக்கப்பட்டது.
 - 4) ரூபா 50000 க்கு குளிர்சாதனப் பெட்டி கொள்வனவு
06. வணிகத்தின் கடந்த காலங்களில் இடம் பெற்ற கொடுக்கல் வாங்கல்களின் விளைவாக உருவாகிய வளங்கள் அழைக்கப்படுவது
 - 1) பொறுப்புக்கள்
 - 2) சொத்துக்கள்
 - 3) மூலதனம்
 - 4) வருமானங்கள்
07. வணிகத்தினால் செலுத்தப்பட வேண்டியதும், எதிர்கால கடப்பாடுடையவையாகவும் கருதப்படுவது
 - 1) வருமானங்கள்
 - 2) செலவுகள்
 - 3) சொத்துக்கள்
 - 4) பொறுப்புக்கள்
08. வணிகக் கருமங்களுக்காக பயன்படுத்துகின்ற கட்டடம், மோட்டார் வாகனம், காசு, சரக்கிருப்பு போன்றவற்றைக் குறிப்பது,
 - 1) பொறுப்பு
 - 2) சொத்து
 - 3) உரிமை
 - 4) வருமானம்

பகுதி 11

1. கணக்கீட்டின் பிரதான நோக்கம் யாது?
2. கணக்கீட்டின் ஏனைய நோக்கங்கள் நான்கு தருக.
3. வணிகக் கொடுக்கல் வாங்கல் என்றால் என்ன?
4. கொடுக்கல் வாங்கலின் விளைவாகத் தோன்றும் கணக்கீட்டுக் கூறுகளைக் குறிப்பிடுக.
5. சொத்துக்கள் என்றால் என்ன?
6. சொத்தொன்றின் பணிபுகளைக் குறிப்பிடுக.
7. வணிகமொன்றில் காணப்படும் சொத்துக்களின் இரு பிரதான வகைகளையும் குறிப்பிட்டு அவற்றிற்கு உதாரணம் தருக.
8. பொறுப்புக்கள் என்றால் என்ன?
9. பொறுப்பொன்றின் பிரதான பண்புகள் இரண்டினைக் குறிப்பிடுக?
10. பொறுப்புக்களை இரு பிரதான பிரிவுகளாக வகைப்படுத்தலாம். அவற்றினைக் குறிப்பிடுக.
11. வருமானங்கள் என்பதனால் கருதப்படுவது யாது?
12. பின்வரும் பேரேட்டுக் கணக்குகள், சொத்து, பொறுப்பு, உரிமை, வருமானம், செலவீனம் என்பவற்றுள் எவ்வகையை சார்ந்தவை எனக் குறிப்பிடுக.
(அ) தளபாடம் (ஆ) மூலதனம் (இ) வங்கிக்கடன் (ஈ) மின் கட்டணம்
13. தூயவன் மரத்தளபாட விற்பனையகமொன்றை நடாத்திச் செல்கின்றார் அவரது வணிகத்தில் காணப்படும் உருப்பபடிகள் சில கீழே தரப்படுகின்றன.
A. உற்பத்தி செய்த மரத்தளபாடங்களின் இருப்புக்கள்
B. பலகைகளை அரியும் இயந்திரங்கள்
C. கடனடிப்படையில் கொள்வனவு செய்யப்பட்ட பலகைகளுக்கு செலுத்த வேண்டிய காசு
D. வணிகத்தை விரிவுபடுத்தவேன இலங்கை வங்கியில் பெறப்பட்ட வங்கிக்கடன் மேற்படி உருப்பபடிகளை பின்வரும் தலைப்புக்களில் வேறுபடுத்திக் காட்டுக.
(அ) நடைமுறைச்சொத்து (இ) நடைமுறைப் பொறுப்பு
(ஆ) நடைமுறையல்லாச் சொத்து (ஈ) நடைமுறையல்லாப் பொறுப்பு
14. அரிச்சந்திரன் வணிகத்தில் 2019.08.01 ஆம் திகதி பின்வரும் மீதிகளை காணக்கூடியதாகவுள்ளது.
மோட்டார் வாகனம் ரூ 300 000 சரக்கிருப்பு ரூ 100 000
காசு ரூ 75 000 வங்கிக்கடன் ரூ 150 000
கடன்கொடுத்தோர் ரூ 50 000
(அ) மொத்தச் சொத்தின் பெறுமதியைக் கணிப்பிடுக.
(ஆ) மொத்தப் பொறுப்பின் பெறுமதியைக் கணிப்பிடுக.
15. பின்வருவன வெதுப்பக உற்பத்தி நிறுவனமொன்றில் காணப்பட்ட பேரேட்டுக் கணக்குகள் ஆகும்.
சம்பளக் கணக்கு கடன்பட்டோர் கணக்கு கட்டிடக் கணக்கு
வங்கிக்கடன் கணக்கு மின்சாரக் கட்டணக் கணக்கு அட்டுறுச் செலவுக் கணக்கு
விற்பனைக் கணக்கு பெற்ற கழிவுக் கணக்கு
மேற்குறித்த கணக்குகளை பின்வரும் வகையில் வகைப்படுத்திக் காட்டுக.
1) சொத்துக் கணக்குகள் 3. வருமானக் கணக்குகள்
2) பொறுப்புக் கணக்குகள் 4. செலவுக் கணக்குகள்

கணக்கீட்டுச் சமன்பாடு Accounting Equation

1. சரியான கணக்கீட்டுச் சமன்பாடாக அமைவது
 - 1) உரிமை + பொறுப்புக்கள் = சொத்துக்கள்
 - 2) உரிமை + சொத்துக்கள் = பொறுப்புக்கள்
 - 3) பொறுப்புக்கள் + சொத்துக்கள் = உரிமை
 - 4) உரிமை + சொத்து = பொறுப்பு

2. கொடுக்கல் வாங்கலொன்று கணக்கீட்டுச் சமன்பாட்டில் ஏற்படுத்தும் தாக்கம் கீழே தரப்பட்டுள்ளது. சொத்துக்கள் = உரிமையாளர் உரிமை + பொறுப்புக்கள்

$$+250000 = +250000$$
 மேலே தரப்பட்டுள்ள கணக்கீட்டுச் சமன்பாட்டில் பதிவு செய்யப்பட்டுள்ள கொடுக்கல் வாங்கல்,
 - 1) மூலதனம் இடப்பட்டது ரூ 250000
 - 2) பொருட் கொள்வனவு ரூ 250000
 - 3) பொருட்கள் கடனுக்கு கொள்வனவு ரூ 250000
 - 4) கடன்கொடுத்தோர்க்கு காசுக்கொடுப்பனவு ரூ 250000

3. வியாபார நிறுவனமொன்றின் காசாக செலுத்திய தொலைபேசிக்கட்டணம் ரூ 8000 தொடர்பில் அடிப்படைக் கணக்கீட்டுச் சமன்பாட்டின் மீது ஏற்படுத்தும் தாக்கத்தை சரியான முறையில் எடுத்துக் காட்டும் விடையைத் தெரிவு செய்க.

சொத்துக்கள்	=	உரிமையாளர் உரிமை + பொறுப்புக்கள்		
1) +8000	=	+8000	-	
2) - 8000	=	- 8000	-	
3) -	=	+8000	- 8000	
4) -	=	- 8000	+8000	

4. நடவடிக்கை ஒன்றிற்கான கணக்கியல் சமன்பாடு கீழ்வருமாறு
 சொத்துக்கள் = உரிமை + பொறுப்புக்கள்

$$-6000 \quad -600 \quad -5400$$
 கீழ்வரும் நடவடிக்கைகளில் எது மேற்படி கணக்கியல் சமன்பாட்டிற்கு பொருத்தமானது.
 - 1) கடன் கொடுத்தோனாகிய நரேஷிற்கு ரூ.5400 செலுத்தப்பட்டது.
 - 2) ரூ 6000 கிரயமான பொருட்கள் ரூ 5400 இற்கு விற்பனை செய்யப்பட்டது.
 - 3) வங்கிக்கடன் தவணைக் கட்டணமாக ரூ 6000 செலுத்தப்பட்டது. அத் தொகையில் ரூ 600 வங்கிக்கடன் வட்டி உள்ளடங்கியுள்ளது.
 - 4) கடன் கொடுத்தோருக்கு ரூ 5400 செலுத்தியதன் மூலம் பெற்ற கழிவு ரூ 600

- 5 மற்றும் 6 ம் வினாக்களுக்கு பின்வரும் தகவல்களைப் பயன்படுத்துக.

A. உரிமையாளர் இட்ட மூலதனம்	ரூபா. 100 000
B. வங்கிக்கடன் பெற்றது	ரூபா. 30 000
C. உரிமையாளர் பற்று	ரூபா 5 000
D. நிமலிடம் பொருள் கொள்வனவு	ரூபா 15 000

5. மேற்படி கொடுக்கல் வாங்கல்களால் கணக்கீட்டு சமன்பாட்டினை சரியாகக் காட்டும் கூற்று
 சொத்து = உரிமையாண்மை + பொறுப்பு
 - 1) 125 000 = 100 000 + 25 000
 - 2) 140 000 = 95 000 + 45 000
 - 3) 125 000 = 95 000 + 30 000
 - 4) 140 000 = 110 000 + 30 000

13. பின்வரும் விடயங்களில் இருந்து உரிமையில் அதிகரிப்பும் பொறுப்பில் குறைவும் ஏற்படுத்தும் தாக்கத்தைக் காட்டும் கொடுக்கல் வாங்கல் ஒன்றாக இருப்பது.
 - 1) உரிமையாளர் தனது சொந்த நிதியைப் பயன்படுத்தி வணிகத்தின் சென்மதியாளருக்கு நேரடியாகச் செலுத்தியது ரூ 20 000
 - 2) உரிமையாளர் தனது தனிப்பட்ட சொந்தத் தேவை கருதி ரூ 10 000 ஐ வணிகத்திலிருந்து பற்றுதல்.
 - 3) உரிமையாளர் ரூ 20 000 ஐ மேலதிக மூலதனமாக இடல்.
 - 4) ரூ 500 000 பெறுமதியான இயந்திரத்தினைக் கொள்வனவு செய்தல்.
14. பொறுப்பொன்று குறையும் அதேவேளை, காசுச் சொத்து குறையும் இரட்டை விளைவினைக் காட்டும் சரியான கொடுக்கல் வாங்கலொன்றைத் தெரிவு செய்க.
 - 1) ஊழியருக்கு சம்பளம் வழங்குதல்
 - 2) வங்கியிலிருந்து கடன் பெறல்
 - 3) வங்கிக் கடனை மீள்ச் செலுத்துதல்
 - 4) கடனுக்கு விற்பனை செய்தல்
15. வணிகமொன்றின் உரிமையினை மாற்றமடையச் செய்யும் நடவடிக்கை அல்லாதது,
 - 1) மேலதிக மூலதனமிடல்
 - 2) நானாவித வருமானம் பெறப்படல்
 - 3) காசாகப் பற்றுதல்
 - 4) காணிகட்டடம் கொள்வனவு

பகுதி 11

1. வணிகமொன்றில் உரிமை மாற்றமடையும் சந்தர்ப்பங்களைக் குறிப்பிடுக.
2. வணிகமொன்றில் உரிமையில் குறைவை ஏற்படுத்தும் சந்தர்ப்பங்களைக் குறிப்பிடுக.
3. வணிகமொன்றில் உரிமையில் அதிகரிப்பை ஏற்படுத்தும் சந்தர்ப்பங்களைத் தருக.
4. விமலன் வணிகத்தின் 2019 ஆம் ஆண்டிற்குரிய தகவல்கள் சில கீழே தரப்படுகின்றன.

2019.01.01 இல் மூலதனம்	ரூ 430 000
நிதியாண்டு வருமானங்கள்	ரூ 240 000
நிதியாண்டு செலவினங்கள்	ரூ 150 000
மேலதிக மூலதனம் இட்டது	ரூ 60 000
- 2019 டிசெம்பர் 31 ஆம் திகதியில் உரிமையாளரின் உரிமையைக் கணிப்பிடுக
5. கணபதி வணிகத்தின் 2017 ஜனவரி மாதத்தின் முதல் வாரத்தினுள் இடம் பெற்ற கொடுக்கல் வாங்கல்கள் பின்வருமாறு

1) 2017.01.01 இல் உரிமையாளரால் மூலதனமாக இட்ட காசு	ரூ 10 000
2) 2017.01.02 இல் பொருள் கொள்வனவு	ரூ 20 000
3) 2017.01.03 இல் உரிமையாளர் பற்றிய காசு	ரூ 10 000
4) 2017.01.04 இல் வங்கிக்கடன் பெற்றது	ரூ 50 000
- வேண்டப்படுவது:-
மேற்குறிப்பிட்ட கொடுக்கல் வாங்கல்கள் கணக்கீட்டுச் சமன்பாட்டில் தாக்கத்தை ஏற்படுத்துகின்ற முறையினைக் காட்டுக.
6. பின்வரும் கொடுக்கல் வாங்கல் கணக்கீட்டுச் சமன்பாட்டில் பதிந்துகாட்டுக.

சொத்துக்கள் = மூலதனம் + பொறுப்புக்கள்

 - 2020/1/1 – உரிமையாளரால் ரூபா 10,000 மூலதனமிடப்பட்டது..
 - 2020/1/2 - ரூபா 20,000 ற்கு பொருள் கொள்வனவு செய்யப்பட்டது.
 - 2020/1/3 - ரூபா 10,000 வங்கியில் நடைமுறைக் கணக்கு ஆரம்பிக்க வைப்பிலிடப்பட்டது.
 - 2020/1/4 - ரூபா 50,000 பெறுமதியான வங்கிக் கடன் பெறப்பட்டது.
 - 2020/1/5 – தனது சொந்த செலவிற்காக உரிமையாளரால் ரூபா 5,000 காசு எடுத்துக்கொள்ளப்பட்டது.
7. கதிரவன் வணிகத்தில் பின்வரும் மீதிகள் 2019 யூலை 01 இல் காணப்பட்டன.

மோட்டார் வாகனம்	ரூ 300 000
சரக்கிருப்பு	ரூ 100 000
கடன்பட்டோர்	ரூ 75 000
காசு	ரூ 100 000
வங்கிக்கடன்	ரூ 200 000
கடன்கொடுத்தோர்	ரூ 75 000
மூலதனம்	ரூ 300 000

யூலை மாதத்தில் இடம்பெற்ற கொடுக்கல் வாங்கல்கள் வருமாறு:-

11. தேன்மொழி வணிகத்தில் 2019 ஜனவரி மாதம் முதல் வாரத்தில் இடம்பெற்ற கொடுக்கல்வாங்கல்களினால் கணக்கீட்டுச் சமன்பாட்டில் ஏற்பட்ட தாக்கங்கள் வருமாறு.

காணிகட்டிடம் + சரக்கிருப்பு + கடன்பட்டோர் + காசு = உரிமை + வங்கிக்கடன் + கடன்கொடுத்தோர்

01/01	+100000	- 50000 =	+ 50 000
03/01		- 20000 =	- 20000
04/01		+100000=	+100000
05/01	- 30000	+30000	

ஒவ்வொரு தினத்திலும் இடம்பெற்றதாகக் கருதக் கூடிய கொடுக்கல்வாங்கல்களை பெறுமானங்களுடன் முன்வைக்க.

12. பின்வரும் கொடுக்கல் வாங்கல்கள் கணக்கீட்டுச் சமன்பாட்டில் ஏற்படுத்தும் தாக்கங்களைக் குறிப்பிடுக.

- 1) ரூபா 500 000 மூலதனமிடல்
- 2) ரூபா 200 000 வங்கிக் கடன் பெறல்
- 3) ரூபா 50 000 க்கு காசுக்கு பொருள் கொள்வனவு
- 4) ரூபா 10 000 கட்டிட வாடகை செலுத்துதல்

விடையளிப்பதற்கு பின்வரும் கணக்கீட்டுச் சமன்பாட்டு மாதிரியைப் பயன்படுத்துக.

கொடுக்கல் வாங்கல் இல	சொத்து	=	உரிமை	+	பொறுப்பு
1)					
2)					
3)					
4)					

(ஆ) மேலே (அ) பகுதியில் குறிப்பிட்ட கொடுக்கல் வாங்கல்களைப் பயன்படுத்தி கீழுள்ள அட்டவணையை பூர்த்தி செய்க.

கொடுக்கல் வாங்கல்	வரவு வைக்க வேண்டிய கணக்கு	செலவு வைக்க வேண்டிய கணக்கு
1)		
2)		
3)		
4)		

கொடுக்கல் வாங்கல்களின் இரட்டை விளைவு

Dual impact of Transaction

1. வரவு அதிகரிக்கின்றது செலவும் அதிகரிக்கின்றது. இவ் இரட்டை விளைவு பொருந்தும் கணக்கின் வகைகளாக அமைவது,

- 1) சொத்துக்கணக்கு, செலவினக் கணக்கு
- 2) செலவினக் கணக்கு, வருமானக் கணக்கு
- 3) உரிமைக்கணக்கு, வருமானக் கணக்கு
- 4) சொத்துக்கணக்கு, பொறுப்புக்கணக்கு

2. கீழே X நிரலில் கணக்குகளும் Y நிரலில் அதன் விளைவுகளும் தரப்படுகின்றன.

கணக்கு	விளைவு
கடன்பட்டோர்	A – அதிகரித்தல் வரவு, அதிகரித்தல் வரவு
வங்கிக்கடன்	B – அதிகரித்தல் செலவு, குறைதல் வரவு
	C – அதிகரித்தல் வரவு, குறைதல் வரவு
	D – குறைதல் வரவு, அதிகரித்தல் செலவு

கடன்பட்டோர், வங்கிக்கடன் கணக்குகளின் விளைவுகள் முறையே சரியாக அமைவது,

- 1) A, D
- 2) B, C
- 3) C, A
- 4) C, B

3. செலவு மீதியைக் கொண்ட தொகுதி

- 1) சொத்துக்கள், செலவீனங்கள், வருமானங்கள்
- 2) சொத்துக்கள், வருமானங்கள், பொறுப்புக்கள்
- 3) சொத்துக்கள், பொறுப்புக்கள், செலவீனங்கள்
- 4) பொறுப்புக்கள், வருமானங்கள், உரிமை

4. X நிரல் முதன்மை ஏடுகளையும் Y நிரல் மூல ஆவணங்களையும் கொண்டுள்ளது.

X நிரல்

Y நிரல்

1. காசேடு

A. நாட்குறிப்புக் கைச்சாத்து

2. வங்கிக்கணக்கு

B. பட்டியல்

3. விற்பனை நாளேடு

C. வங்கிக்கூற்று

4. பொதுநாட்குறிப்பேடு

D. பற்றுச்சீட்டு

முதன்மை ஏடுகளுக்கு பொருத்தமான மூல ஆவணங்களை சரியான ஒழுங்கில் காட்டும் விடையினைத் தெரிவு செய்க.

1) D, B, C, A

2) D, C, B, A

3) D, A, B, C

4) D, C, A, B

5. கணக்கியலில் மூலஏடாகவும், பேரேடாகவும் செயற்படும் ஓர் ஏடு?

1) கொள்வனவு நாளேடு

2) விற்பனை நாளேடு

3) பொதுநாட்குறிப்பேடு

4) காசேடு

6. காசுக் கொடுப்பனவிற்கான மூல ஆவணமாக அமைவது,

1) பட்டியல்

2) கொடுப்பனவுக் கைச்சாத்து

3) பற்றுச்சீட்டு

4) வைப்புச்சீட்டு

7. வங்கியில் பணத்தை வைப்பிலிட்டமைக்கான கணக்கு பதிவுகளை மேற்கொள்ளும் போது பயன்படுத்தும் மூலஆவணமாக அமைவது,

(1) பற்றுச்சீட்டு

(2) கைச்சாத்து

(3) பட்டியல்

(4) வைப்புச் சீட்டு

பகுதி 11

1. மூல ஏடுகள் என்றால் என்ன?

2. வணிகமொன்றில் பயன்படுத்தும் மூல ஏடுகளை குறிப்பிடுக.

3. மூல ஏடுகளின் முக்கியத்துவத்தைக் குறிப்பிடுக.

4. மூல ஆவணங்கள் என்றால் என்ன?

5. பின்வரும் கொடுக்கல் வாங்கல்கள் கீர்த்தி ஆடை உற்பத்தி நிறுவனத்தில் இடம்பெற்றவையாகும்.

1) காசு விற்பனைகள் ரூ 20 000

2) காசோலை மூலம் சம்பளக் கொடுப்பனவு ரூ 5 000

மேற்குறித்த கொடுக்கல் வாங்கல்குரிய மூல ஆவணத்தையும், மூலப் பதிவேட்டையும் குறிப்பிடுக.

6. மூல ஆவணங்களில் பொதுவாகக் காணப்படும் விடயங்கள் நான்கு தருக.

7. மூல ஆவணங்களின் பயன்கள் நான்கு தருக.

காசேடும், சில்லறைக் காசேடும்

The Cash book and the Petty cash book

1. பட்டியல் விலையிலிருந்து குறைக்கப்படும் பெறுமானமாக அமைவது

1) கொடுத்தகழிவு

2) வியாபாரக்கழிவு

3) பெற்றகழிவு

4) காசுக்கழிவு

2. குறித்தவொரு நிறுவனத்தின் கடன்கொடுத்தோர் தொடர்பான தகவல்கள் வருமாறு

ஆரம்ப கடன்கொடுத்தோர் மீதி 20000.00 கடன்கொடுத்தோருக்கு கொடுத்த காசு 15000.00
கடனுக்கு பொருள் கொள்வனவு 10000.00 கடன்கொடுத்தோரிடம் பெற்றகழிவு 5000.00

இறுதிக் கடன்கொடுத்தோர் மீதி யாது ?

1) 30000.00

2) 10000.00

3) 15000.00

4) 20000.00

3. நகுலன் வணிகத்தின் கடன்கொடுத்தோர் ஒருவரான சமந்தாவுக்கு ரூ 20 000 பெறுமதியான கடன்தொகையைச் செலுத்தும் போது 10% கழிவொன்றிற்கு உரித்துடையதாக இருந்தது. இது நகுலன் வணிகத்திற்கு

1) ரூ 2000 கொடுத்த கழிவாகும்.

2) ரூ 2000 பெற்ற கழிவாகும்.

3) ரூ 20 000 கொடுத்த கழிவாகும்.

4) ரூ 20 000 பெற்ற கழிவாகும்.

4. நிபந்தனையாக அனுமதிக்கப்பட்ட காலப்பகுதியினுள் கடன்கொடுத்தோருக்குப் பணம் செலுத்தும்போது கொடுக்கவேண்டிய தொகையிலிருந்து கடன்கொடுத்தோர்களால் கழித்துக்கொள்ளப்படும் பெறுமானமாகக் கருதப்படுவது,
- 1) பெற்ற காசுக் கழிவு
 - 2) கொடுத்த காசுக்கழிவு
 - 3) பெற்ற வியாபாரக்கழிவு
 - 4) கொடுத்த வியாபாரக் கழிவு
5. 01.01.2019 இல் மிதூரா வணிகத்தின் காசுமீதி ரூ 55 000 ஆகும். கீழே தரப்படும் கொடுக்கல் வாங்கல் நிகழ்ந்த பின் நிறுவனத்தின் காசுமீதியை சரியாகக் காட்டுவது,
- சம்பளம் செலுத்தியது ரூ 15 000
 - பொருட்களாகப் பற்றியது ரூ 3 000
 - கவியரசனுக்கு பொருள் விற்பனை ரூ 15 000
 - வாடகை வருமானம் பெற்றது ரூ 20 000
- 1) ரூ 60 000
 - 2) ரூ 78 000
 - 3) ரூ 70 000
 - 4) ரூ 75 000
6. கடன் கொடுப்பனவு செய்யும் காலத்தினுள் கடன்பட்டோரால் கடன்தொகை கொடுப்பனவு செய்யப்பட்டால் கடனில் இருந்து குறைத்து வழங்கும் கழிவினைக் குறிப்பது,
- 1) கொடுத்த கழிவு
 - 2) பெற்ற கழிவு
 - 3) காசுக் கழிவு
 - 4) வியாபாரக் கழிவு
7. விமலன் வணிகத்தினது சில்லறைக் காசேட்டு வசக்கட்டு ரூ 3000 ஆகும். 30.06.2019 இல் சில்லறைக் காசாளரிடமிருந்த மீதி 250 ஆகும். 01.07.2019 இல் சில்லறைக் காசேடானது மீள நிரப்பப்பட்டது. சில்லறைக் காசேட்டு வசக்கட்டை மீள நிரப்புவது தொடர்பான சரியான இரட்டைப்பதிவு எது?
- (1) சில்லறைக் காசேடு வரவு ரூ 3000, காசேடு செலவு ரூ 3000
 - (2) சில்லறைக் காசேடு வரவு ரூ 2750, காசேடு செலவு ரூ 2750
 - (3) காசேடு வரவு ரூ 3000, சில்லறைக் காசேடு செலவு ரூ 3000
 - (4) காசேடு வரவு ரூ 2750, சில்லறைக் காசேடு செலவு ரூ 2750
8. சில்லறைக் காசேட்டு ஆரம்பமீதி ரூபா 250 குறித்த மாத செலவுகளின் மொத்தம் 2000. குறித்த மாதத்தின் இறுதி சில்லறைக் காசுமீதி 500 எனின் ஆரம்ப மீள்நிரம்பல் தொகை யாது ?
- 1) 2000.00
 - 2) 2500.00
 - 3) 2250.00
 - 4) 2750.00
9. வணிகமொன்றின் சில்லறைக் காசேடு தொடர்பாக சில தகவல்கள் கீழே தரப்படுகின்றன.
- 01.01.2017 இல் சில்லறைக் காசாளரிடம் இருந்த சில்லறைக் காசேட்டு மீதி ரூ 200
 - 01.01.2017 இல் மீள் நிரப்பப்பட்ட சில்லறைக் காசு வசக்கட்டு ரூ 1800
 - 31.01.2017 இல் சில்லறைக் காசாளரிடமிருந்த சில்லறைக் காசேட்டு மீதி ரூ 300
- வணிகத்தின் சில்லறைக் காசு வசக்கட்டுத் தொகையையும் ஜனவரி மாதத்தின் சில்லறைக் காசேட்டுச் செலவினங்களையும் முறையே சரியாக எடுத்துக் காட்டும் விடையைத் தெரிவு செய்க.
- 1) ரூ 2000, ரூ 1500
 - 2) ரூ 1800, ரூ 1500
 - 3) ரூ 1800, ரூ 1700
 - 4) ரூ 2000, ரூ 1700
10. சாரதா வணிகத்தின் சில்லறைக் காசேட்டுக் கட்டுநிதியின் பெறுமதி ரூ 2000 ஆகும். 2018 பெப்ரவரி மாதத்திற்கான சில்லறைக் காசேட்டுச் செலவுகள் ரூ 1800 ஆகக் காணப்பட்டது. மார்ச் 1 ஆம் திகதி ரூ 2300 மீள நிரப்பப்பட்டது. சாரதா வணிகத்தின் சில்லறைக் காசேடு தொடர்பிலான சரியான கூற்றைத் தெரிவு செய்க.
- 1) மார்ச் மாதத்திற்கான சில்லறைக் காசேட்டுக் கட்டுநிதியின் பெறுமதி ரூ 2500 ஆகும்.
 - 2) பெப்ரவரி 28 இல் சில்லறைக் காசாளரிடம் இருந்த தொகை ரூ 500 ஆகும்.
 - 3) பெப்ரவரி மாதத்திற்கான சில்லறைக் காசேட்டுச் செலவுகள் ரூ 2300 ஆகும்.
 - 4) மார்ச் மாதத்திலிருந்து சில்லறைக் காசேடு நிதி அதிகரித்த தொகை ரூ 300 ஆகும்.
11. வணிகமொன்றின் சில்லறைக் காசேட்டின் வசக்கட்டு ரூ. 4 500. குறித்த ஒரு மாதத்தின் செலவுத் தொகை ரூ. 4 100 எனின் மீள் நிரப்பும் தொகை யாது?
- 1) ரூ. 4500
 - 2) ரூ. 8600
 - 3) ரூ. 4100
 - 4) ரூ. 400

12. அமின் வணிகத்தின் சில்லறை கொடுக்கல் வாங்கல்கள் வருமாறு.

சில்லறை காசு சுற்றோட்டம் ரூ 2000. ஒவ்வொரு மாத ஆரம்பத்திலும் செலவுகள் மீள் நிரப்பப்படும். 2019 ஏப்ரல் 30ம் திகதி சில்லறை காசு மீதி ரூ 400 ஆகும். மே மாத்திற்கான தகவல்கள் வருமாறு.

மே 05	வாகனக்கூலி	100
	தபால் கடட் ணம்	50
மே 15	போக்குவரத்து	200
	தாரகனுக்கு செலுத்தியது	300
மே 20	எழுதுகருவி	100
	உபசரிப்பு	200
மே 25	பிரதிபண்ணும் தாள்	200
	தபால் கடட்ணம்	200

2019 ஜூன் 01இல் மீள் நிரப்ப வேண்டிய தொகை

- 1) ரூ.650 (2) ரூ.1 350 (3) ரூ.1 600 (4) ரூ.2 000

13. நிமல் வியாபாரம் சில்லறை காசேட்டை பயன்படுத்துகின்றது. பின்வருவன அவை தொடர்பானதாகும்.

- ❖ 2019.06.01 ல் மீதி ரூ. 500
- ❖ சில்லறை காசு சுற்றோட்டம் ரூ. 2 500

நிமல் வணிகத்தின் மே மாதத்திற்கான சில்லறைச் செலவுகள் யாது?

- (1) ரூ.1 500 (2) ரூ.2 000 (3) ரூ.2 100 (4) ரூ.2 500

14. வணிகத்தில் காணப்பட்ட சில்லறை காசேட்டு வசக்கட்டு 2500 ஆகும். 2018.03.31இல் சில்லறை காசாளரிடம் காணப்பட்ட மீதி ரூ 500ஆகும். அத்துடன் அன்றைய தினம் மீள் நிரப்பப்பட்ட தொகை ரூ 3000 மார்ச் மாதம் முதல் சில்லறை காசு வசக்கட்டு எவ்வளவு தொகையினால் அதிகரிக்கப்பட்டுள்ளது.

- (1) 500 (2) ரூ 1000 (3) ரூ 2000 (4) ரூ 2500

பகுதி 11

1. காசேடு என்பதனால் கருதப்படுவது யாது?
2. காசேட்டின் இரட்டைத் தொழிற்பாட்டினைக் குறிப்பிடுக.
3. காசுக் கழிவின் வகைகளைக் குறிப்பிடுக.
4. பெற்ற கழிவிற்கான இரட்டைப் பதிவினைத் தருக.
5. சில்லறைக் காசேடு என்பதனால் கருதப்படுவது யாது?
6. சில்லறைக் காசேடு தயாரிப்பதன் நோக்கத்தைக் குறிப்பிடுக.
7. சில்லறைக் காசேட்டுக் கொடுப்பனவிற்கான மூலஆவணத்தைக் குறிப்பிடுக.
8. 'வசக்கட்டு மீள்நிரப்பல்' என்றால் என்ன?
9. சில்லறைக் காசேட்டின் பகுப்பாய்வு நிரல்களின் கூட்டுத்தொகைக்குரிய இரட்டைப்பதிவினைத் தருக.

10. காமராஜர் நிறுவனத்தின் 2019.10.01 திகதியில் மீதிகள் வருமாறு:-

கடன்பட்டோர் மீதிகள் -	சர்மா ரூ 30000	மகேசன் ரூ 25000
கடன்கொடுத்தோர் மீதிகள் -	சினைகன் ரூ 27500	சொக்கன் ரூ 31000
காசுமீதி ரூ 50000		
வங்கிமீதி ரூ 60000		

அக்டோபர் மாதத்தில் இடம் பெற்ற கொடுக்கல் வாங்கல்கள் வருமாறு.

2019.10.05 சர்மாவிடம் பெற்ற காசு 19000, கொடுத்த கழிவு 1000.

2019.10.08 மகேனிடம் 10000 காசோலை பெறப்பட்டு உடனடியாக வங்கியில் வைப்பச் செய்யப்பட்டது. அனுமதித்த கழிவு 500.

2019.10.19 சினைகனிடம் 500 கழிவு பெற்று கடன் தீர்க்கப்பட்டது.

2019.10.23 10% கழிவு பெற்று சொக்கனின் 11000 கடன் தீர்க்கப்பட்டது.

வேண்டப்படுவது -

1. கழிவு நிரல்களுடன் கூடிய காசுக்கணக்கு
2. கழிவு நிரல்களுடன் கூடிய வங்கிக்கணக்கு

11. கபிலன் வணிகத்தில் 2020 ஜனவரி முதல் வாரத்தில் இடம்பெற்ற கொடுக்கல், வாங்கல் வருமாறு:-		
01.01.2020	காசு மீதி	ரூ 120 000
02.01.2020	காசுக்கு பொருள் கொள்வனவு	ரூ 40 000
03.01.2020	வங்கிக் கடன் பெற்றது	ரூ 25 000
04.01.2020	சம்பளக் கொடுப்பனவு	ரூ 20 000
05.01.2020	கடன்பட்டோரிடம் பெற்ற காசு	ரூ 15 000
06.01.2020	காசுக்கு விற்பனை	ரூ 50 000
07.01.2020	மின்சாரக் கொடுப்பனவு	ரூ 5 000

❖ வேண்டப்படுவது:-

ஜனவரி முதல் வாரத்திற்கான காசுக் கணக்கினை தயாரித்து காசுமீதியினைக் கணிப்பிடுக.

மேற்காட்டிய கொடுக்கல் வாங்கல்களை பின்வரும் கணக்கீட்டுச் சமன்பாட்டில் பதிந்து காட்டுக.
மோட்டார் வாகனம் + சரக்கிருப்பு + கடன்பட்டோர் + காசு = உரிமை + வங்கிக்கடன் + கடன்கொடுத்தோர்

12. 'காசேட்டைப் போன்றே சில்லறைக் காசேடும் இரட்டைத் தொழிற்பாட்டை நிறைவேற்றுகின்றது' இக் கூற்றை நீர் ஏற்றுக் கொள்வீரா? காரணம் தருக.

13. ஹரினி வணிகத்தின் விபரங்கள் கீழே காட்டப்பட்டுள்ளது.

சில்லறைக் காசு வசக்கட்டு	ரூ 2000	
2019 ஜனவரி மாதத்தில் சில்லறை செலவுகளின் மொத்தம்	ரூ 1850	
2019 பெப்ரவரி 01ம் திகதி சில்லறை காசு மீள்நிரப்பப்பட்டது		
2019 பெப்ரவரி மாதத்தில் நடைபெற்ற சில்லறைச் செலவுகள் கீழே காட்டப்பட்டுள்ளது.		
திகதி	விபரம்	தொகை
பெப் 02	போக்குவரத்துச் செலவு	ரூ 80
பெப் 03	கபிலாவிற்கு செலுத்திய சம்பள முற்பணம்	ரூ 200
பெப் 10	பேனா பென்சில் செலவு	ரூ 100
பெப் 12	சீனி தேயிலை செலவு	ரூ 120
பெப் 15	பஸ் கட்டணம்	ரூ 100
பெப் 17	C.R. கொப்பி 02	ரூ 160
பெப் 20	குளிப்பானம்	ரூ 100

A. போக்குவரத்து, உபசரிப்பு, எழுதுகருவி என்ற பகுப்பாய்வு நிரல்களைப் உள்ளடக்கிய சில்லறை காசேட்டை தயாரித்து வசக்கட்டை மீள்நிரப்புக.

B. பகுப்பாய்வு நிரல்களின் கூட்டுத்தொகையினை பேரேட்டுக்கு மாற்றுக.

14. கயல்விழி வணிகத்தின் சில்லறைக் காசு வசக்கட்டுத் தொகை ரூ 3000 ஆகும். மேலதிக தகவல்கள் வருமாறு

01.01.2018	சில்லறைக் காசு மீதி	ரூ 600
01.01.2018	சில்லறைச் செலவுக்கான கட்டுநிதி மீள்நிரப்பப்பட்டது	
31.01.2018	வரையான சில்லறைச் செலவுகளின் மொத்த தொகை	ரூ 2650
01.02.2018	கட்டுநிதி மீள் நிரப்பப்பட்டது	

வேண்டப்படுவது

- 01.01.2018 இல் வசக்கட்டு மீள் நிரப்பட்ட தொகை எவ்வளவு?
- 01.02.2018 இல் வசக்கட்டு மீள் நிரப்பப்பட்ட தொகை எவ்வளவு?

15. காமாட்சி வணிகத்தின் 2017 மார்ச் மாதத்தில் இடம் பெற்ற சில்லறைக்காசு கொடுப்பனவுகளுக்குரிய தகவல்கள் வருமாறு.

சில்லறைக்காசு கட்டுநிதி ரூபா 2500 ஆக இருந்தது. (ரூபா)

- 01.03.2017 இல் மீதி 500
- 01.03.2017 இல் மீதி நிரம்பல் செய்யப்பட்டது.
- 01.03.2017 இல் தபால் கட்டணம் 120

- 03.03.2017 இல் உபசரணைச் செலவு 360
- 04.03.2017 இல் ஆட்டோ செலவு 640
- 07.03.2017 இல் உட்சமை கூலி 500
- 10.03.2017 இல் சுத்திகரிப்புச் செலவு 200
- 16.03.2017 இல் மீள் நிரப்பல் செய்யப்பட்டது.

வேண்டப்படுவது

அஞ்சல் செலவு, பிரயாணச் செலவு, உபசரணைச் செலவு, நானாவிதச் செலவு, பேரேட்டுக் கணக்குகள் என்னும் பகுப்பாய்வு நிரல்களுடன் கூடிய சில்லறைக் காசேட்டைத் தயாரிக்குக.

16. தேவிகா வணிகத்தில் இடம்பெற்ற சில்லறைச் செலவுகள் தொடர்பான விபரங்கள் வருமாறு:-

- ❖ சில்லறை காசு வசக்கட்டு நிதி ரூ 3 000
- ❖ 2019 ஜனவரி மாதத்தில் சில்லறைச் செலவுகளின் மொத்தப் பெறுமதி ரூ 2 850
- ❖ 2019 பெப்ரவரி 01 ஆம் திகதி சில்லறைக் காசு மீள் நிரப்பப்பட்டது.
- ❖ 2019 பெப்ரவரி மாதத்தில் நடைபெற்ற சில்லறைச் செலவுகள் கீழே காட்டப்பட்டுள்ளது.

திகதி	கை. இல	விபரம்	தொகை
02.02.2019	001	ஓட்டோ செலவு	ரூ 160
04.02.2019	002	கவிதாவிற்கு செலுத்திய சம்பள முற்பணம்	ரூ 300
11.02.2019	003	பேனா, பென்சில் செலவு	ரூ 200
13.02.2019	004	சீனி, தேயிலை செலவு	ரூ 240
16.02.2019	005	பேருந்துக் கட்டணம்	ரூ 250
18.02.2019	006	02 பயிற்சிக்கொப்பி	ரூ 320
25.02.2019	007	மென்பானம்	ரூ 150

(அ) போக்குவரத்து, உபசரிப்பு, எழுதுகருவி என்ற பகுப்பாய்வு நிரல்களை உள்ளடக்கிய சில்லறை காசேட்டை தயாரித்து வசக்கட்டை மீள்நிரப்புதல்.

(ஆ) பகுப்பாய்வு நிரல்களின் கூட்டுத்தொகையினை பேரேட்டுக்கு மாற்றுக.

வங்கிக் கணக்கு

Bank Account

- விற்பனை மூலம் ரூ 15 000 பெறுமதியான காசோலையொன்று பெறுதல் தொடர்பான சரியான இரட்டைப் பதிவினைத் தெரிவு செய்க.
 - 1) வங்கிக் கணக்கு வரவு ரூ 15 000 விற்பனைக் கணக்கு செலவு ரூ 15 000
 - 2) விற்பனைக் கணக்கு வரவு ரூ 15 000 வங்கிக் கணக்கு செலவு ரூ 15 000
 - 3) காசுக் கணக்கு வரவு ரூ 15 000 விற்பனைக் கணக்கு செலவு ரூ 15 000
 - 4) காசுக் கணக்கு வரவு ரூ 15 000 வங்கிக் கணக்கு செலவு 15 000
- வங்கிக் கணக்கினூடாக மேற்கொள்ளப்படும் கொடுக்கல் வாங்கல்கள் கணக்கிற்குரிய இரட்டைப்பதிவு தத்துவத்திற்கமைய பதிவு செய்யப்படுகின்றன.
 - 1)சொத்து
 - 2) பொறுப்பு
 - 3) வருமானங்கள்
 - 4) செலவீனங்கள்
- வங்கியில் காசு வைப்பிலிடுவதற்கான மூல ஆவணம்,
 - 1)காசோலை அடியிதழ்
 - 2) வைப்புச் சீட்டு
 - 3) பற்றுச்சீட்டு
 - 4) கைச்சாத்து
- பின்வரும் கொடுக்கல் வாங்கல்கள் விமல் வணிகத்தில் 2018 ஏப்ரல் மாதத்தில் இடம்பெற்றன.

2019.04.01	ரூ 25000	வங்கியில் வைப்புச் செய்து நடைமுறைக்கணக்கு ஆரம்பிக்கப்பட்டது.
2019.04.07	கடன்பட்டோரான சரவணமிருந்து கிடைக்கப் பெற்ற 345 இலக்கம் கொண்ட காசோலை ரூ 6000 வங்கியில் வைப்புச் செய்யப்பட்டது.	
2019.04.11	விற்பனைக்காக கிடைக்கப்பெற்ற 400 இலக்கம் கொண்ட காசோலை ரூ 25000 பெறுமதியான காசோலை ஒன்று அச்சந்தர்ப்பத்திலேயே வங்கியில் வைப்பிலிடப்பட்டது.	
2019.04.20	மின்சாரக் கட்டணமாக 425 ஆம் இலக்கம் கொண்ட ரூ 6000 பெறுமதியான காசோலை வழங்கப்பட்டது.	

மேற்குறிப்பட்ட கொடுக்கல் வாங்கல்களை வங்கிக் கணக்கில் பதிந்து காட்டுக.